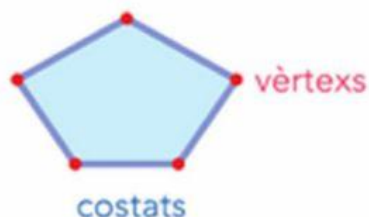


NOM I COGNOM:

DATA:

Els polígons

Un **polígon** és una figura plana limitada per una línia poligonal tancada. Els **costats** i els **vèrtexs** són elements d'un polígon.



El nombre de costats és igual que el de vèrtexs.

1 Quines d'aquestes figures són polígons?



2 Quants costats tenen aquests polígons? Escriu-ho i aprèn-ho.

TRIANGLE

QUADRILÀTER

PENTÀGON

HEXÀGON



costats



costats



costats



costats

3 Observa i completa l'oració.




Els quadrats i els rectangles

són _____ perquè

tenen costats.

Com es diuen aquests polígons?



Hexàgon

Quadrilàter


Pentàgon



Triangle

Quadrilàter

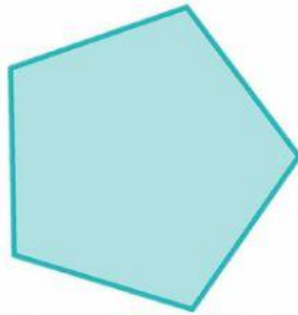
Pentàgon



Hexàgon

Pentàgon

Triangle



Quadrilàter

Pentàgon

Hexàgon

Quina forma tenen aquests objectes? Escribeu-ho.

