



Ficha de trabajo

Nombres y apellidos: _____

Grado: 2° de primaria

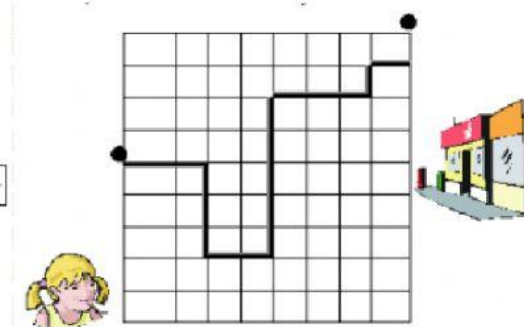

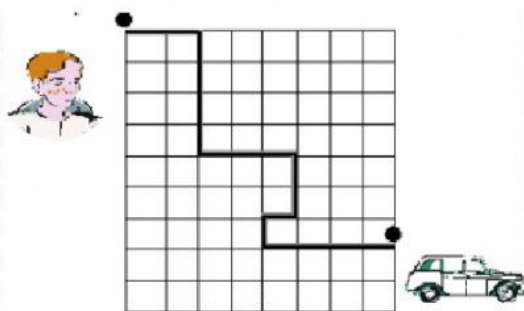
Sección: " ____ "

Fecha: ____ / ____ / 23

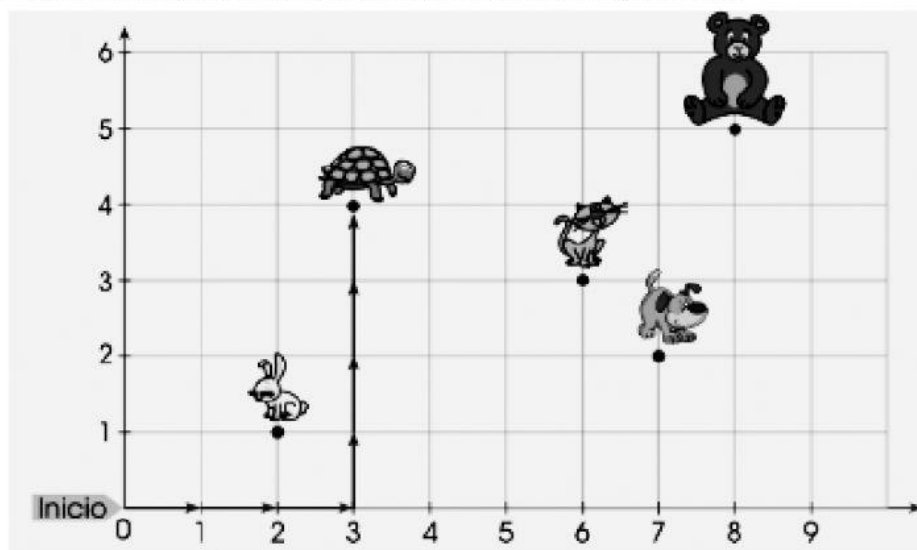
COMPETENCIA: Resuelve problemas de forma, movimiento y localización

Desplazamientos en el plano

1) Describe con números los desplazamientos del niño y de la niña.



2) Observa el plano, luego marca la alternativa correcta.



El recorrido de la tortuga es (3→; 4↑)

El punto al que llegó la tortuga es (3; 4)

¿Cuál es el recorrido del gato?

☐ a $(7 \rightarrow; 2 \uparrow)$

☐ b $(6 \rightarrow; 3 \uparrow)$

☐ c $(8 \rightarrow; 5 \uparrow)$

¿En qué puntos están ubicados los animales?

☐ a $(2; 1) (3; 3) (6; 5) (7; 1) (1; 8)$

☐ b $(1; 2) (4; 3) (3; 6) (2; 7) (5; 8)$

☐ c $(2; 1) (3; 4) (6; 3) (7; 2) (8; 5)$

Santillana (2019). Libro de actividades Matemáticas 2°. Lima, Perú.