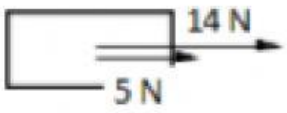

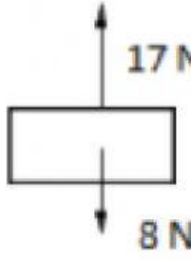
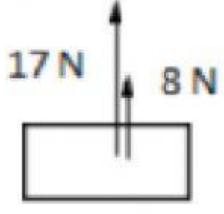
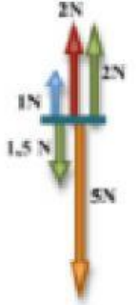

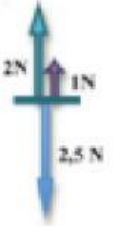


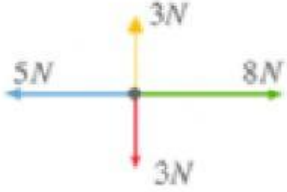


1. Calcula i dibuixa la força resultant, en cada cas :

 <p>$F_R =$ Dirigida cap a:</p>	 <p>$F_R =$ Dirigida cap a:</p>
 <p>$F_R =$ Dirigida cap a:</p>	 <p>$F_R =$ Dirigida cap a:</p>
 <p>$F_R =$ Dirigida cap a:</p>	 <p>$F_R =$ Dirigida cap a:</p>
 <p>$F_R =$ Dirigida cap a:</p>	 <p>$F_R =$ Dirigida cap a:</p>
 <p>$F_R =$ Dirigida cap a:</p>	 <p>$F_R =$ Dirigida cap a:</p>

Indica quina força s'indica en cada cas:

