



**SIMULASI TES SUMATIF TINGKAT SEKOLAH DASAR
KECAMATAN SIDOREJO
TAHUN PELAJARAN 2022/2023**

NAMA SISWA:

LEMBAR SOAL

Mata Pelajaran : SBDP
Kelas : VI (Enam)
Hari/Tanggal :
Waktu :

PILIHAN GANDA

1. Perhatikan gambar berikut!



Notasi balok tersebut memiliki nilai

- a. 1/2 ketukan
b. 1/4 ketukan
c. 1 ketukan
d. 2 ketukan
2. Banyak sekali tarian kreasi daerah di Indonesia, salah satu dari tari tersebut adalah tari Kecak yang berasal dari Bali. Pola lantai yang di pakai pada tarian Kecak adalah....
- a. Vertikal
b. Lingkaran
c. Horizontal
d. Diagonal
3. Perhatikan gambar berceri berikut!



Pak Rudi mengajak Edo ke kandang kelinci miliknya. Kandangnya sangat luas, kelincinya banyak sekali.



Pak Rudi dan Edo memberi makan kelinci. Mereka memberikan wortel. Kelinci sangat suka makan wortel. Semua kelinci berkumpul mendekati Pak Edo.



Edo senang sekali. Edo tertawa kecil-kecilan melihat tingkah lucu



tersebut. Semua kelinci tertawa, tingkah lucu kelinci semakin

Simpulan gambar disamping adalah...

- a. Kasih sayang kepada makhluk
b. Mengganggu orang tua
c. Mengotori kandang
d. Mengganggu binatang
4. Perhatikan lagu berikut!

Ampar-ampar Pisang

D₄=G
2/4 Moderato
Kalimantan Selatan

G Am7 D7 G

0 5 / 1 1 7 1 / 2 5 5 / 2 2 1 2 / 3 /

Am - par ampar pi - sang pi - sang - ku ba - lum ma - sak

Lagu diatas menggunakan tangga nada

- A. Diatonis minor
B. Diatonis mayor

- C. Pentatonis mayor
D. Pentonis minor
5. Berikut ini yang termasuk fungsi reklame non komersial adalah....
 a. Membujuk calon konsumen untuk menggunakan barang atau jasa
 b. Memberikan rasa puas pada konsumen pada produk atau jasa yang sudah di informasikan
 c. Sebagai media komunikasi antar para penjual dan juga konsumen
 d. Mengajak masyarakat untuk menuruti dan mengikuti aturan atau peringatan sesuai himbauan
6. Wilayah jawa tengah yang terkenal dengan ukirannya adalah....
 a. Yogyakarta
 b. Semarang
 c. Surakarta
 d. Jepara
7. Berikut ini yang bukan merupakan tujuan dari pembuatan reklame
 a. Mengajak orang-orang melakukan suatu hal
 b. Menginformasikan sebuah berita
 c. Menampilkan hasil ujian kelulusan
 d. Menawarkan suatu produk
8. Berikut yang termasuk reklame nonkomersial adalah
 a. Iklan minuman
 b. Brosur sekolah
 c. Poster gerakan kebersihan
 d. Embalase kemasan biskuit
9. Perhatikan partitur lagu berikut!

Syukur
Cipt. H. Mutahar

1 6̣ . 6̣ 6̣ 6̣ | 1 . 7̣ 6̣ . | 3 . 3 3 2̣ 3̣ | 7̣ 2̣ 3̣ 7̣ . |
 Da - ri ya - kin - ku ta - guh ha - ti ikh - las ku - pe - ruh

1 6̣ . 6̣ 3̣ 2̣ 3̣ | 7̣ . 1̣ 6̣ . | 6̣ . 6̣ 6̣ 7̣ 6̣ 5̣ | 4̣ . 3̣ 2̣ . |
 A - kan ka - nu - ri - a - Mu Ta - nah a - ir pu - sa - ka

1 5̣ . 5̣ 5̣ 6̣ 5̣ 4̣ | 3̣ . 2̣ 1̣ . | 7̣ . 7̣ 3̣ 2̣ 3̣ | 7̣ 2̣ 1̣ 7̣ . 1̣ |
 In - do - ne - sia mer - de - ka Syu - kur a - ku sem - bah - kan ke

1 3̣ 2̣ 1̣ 7̣ . 1̣ | 6̣ . . 0̣ |
 ha - di - rat - Mu Tu - han

Lagu syukur merupakan salah satu lagu nasional indonesia yang memiliki jenis interval nada...

- a. Diatonis Mayor
b. Kromatik
c. Pentatonis
d. Diatonis Minor

10. $1 - 1 - 1/2 - 1 - 1 - 1 - 1 - 1/2$

Interval nada diatas merupakan tangga nada diatonis.....

- A. Mayor
B. Minor
C. Harmonis
D. Melodi

11. Perhatikan tabel berikut!

No	Nada	Jarak
1	c - c	$\frac{1}{2}$
2	c - d	$1\frac{1}{2}$
3	c - e	2
4	c - f	3

Jarak nada yang benar ditunjukkan oleh

- (1)
- (2)
- (3)
- (4)

12. Perhatikan gambar berikut!



Disamping ini adalah salah satu jenis alat musik tradisional nusantara. Dari daerah mana asal alat musik tersebut....

- Bali
- Papua
- NTT
- Kalimantan Selatan

13. Budaya adalah salah satu keanekaragaman yang ada di negara kita. Diantara keberagaman tersebut adalah tarian. Salah satu nya adalah tari Pendet, tari tersebut menggambarkan tentang....

- Penyambutan atas turunnya dewa-dewi ke alam marcapada
- Kepasrahan manusia kepada Tuhannya
- Penyembahan manusia kepada Tuhannya
- Rasa terima kasih atas anugerah yang telah dilimpahkan kepada manusia

14. Tari Yospan berasal dari

- Papua
- Bali
- Jawa barat
- Sulawesi Utara

15. Perhatikan tabel berikut !

No	Unsur Tari
1.	Gerak
2.	Penonton
3.	Nama tarian
4.	Busana
5.	Iringan tari
6.	Tata rias

Dari tabel tersebut yang termasuk unsur tari adalah

- 3, 4 dan 5
- 4, 5 dan 6
- 1, 2 dan 4
- 1, 3 dan 4

16. Perhatikan gambar berikut



Tari Reog Ponorogo merupakan salah satu tari yang terkenal di nusantara yang memiliki keunikan tersendiri. Berikut ini yang termasuk ciri-ciri tarian tersebut, kecuali....

- a. Menggunakan topeng yang sangat besar
- b. Gerakan lincah
- c. Tarian melibatkan banyak pemain
- d. Gerakan lemah lembut

17. Perhatikan gambar berikut!



Ciri-ciri karya seni rupa diatas yaitu....

- a. Memiliki ukuran panjang, lebar, tinggi, dan volume
- b. Dilihat hanya dari satu arah saja
- c. Medium pembuatannya adalah bidang datar
- d. Memiliki ukuran panjang dan lebar

18. Perhatikan gambar berikut!



Berdasarkan gambar patung diatas, tujuan dari pembuatan patung tersebut yaitu....

- | | |
|-------------|--------------|
| a. Estetika | c. Komersial |
| b. Relegius | d. Simbolis |

19. perhatikan gambar di bawah ini!



Teknik yang digunakan untuk membuat patung pada gambar diatas adalah....

- | | |
|-----------------|-------------------|
| a. Teknik cor | c. Teknik merakit |
| b. Teknik pahat | d. Teknik butsir |

20. Perhatikan gambar berikut ini!



Alat pembuatan patung diatas adalah....

- a. Meja lipat
- b. Meja putar
- c. Meja hias
- d. Kayu

BENAR/SALAH

21. Perhatikan gambar-gambar di bawah ini



A



B



C



D

Yang termasuk karya seni tiga dimensi adalah....

- ☐ A dan D
- ☐ B dan C
- ☐ B dan D
- ☐ A dan B

22. Berikut ini yang termasuk karya seni rupa teknik tempel yang benar adalah....

- ☐ Montase dan melukis
- ☐ Mozaik dan kolase
- ☐ Montase dan kolase
- ☐ Mozaik dan mewarnai

23. Pola lantai yang umum ada pada sebuah tari diantaranya yaitu....

- ☐ Zigzag, vertikal dan horizontal
- ☐ Bentuk huruf N, melengkung dan vertikal
- ☐ Bentuk huruf D, diagonal, dan melingkar
- ☐ Vertikal, horizontal dan melengkung

24. Perhatikan judul lagu di bawah ini!

- A. Maju tak gentar
- B. Syukur
- C. Halo-halo bandung
- D. Indonesia raya

Judul lagu nasional diatas yang memiliki tangga nada diatonis mayor adalah....

- ☐ Maju Tak Gentar dan Syukur
- ☐ Syukur dan Indonesia Raya
- ☐ Halo-Halo Bandung dan Indonesia Raya
- ☐ Maju Tak Gentar dan Halo-Halo Bandung

25. Perhatikan pernyataan-pernyataan berikut ini.

- 1) Memperjelas alur atau isi cerita,
- 2) Memperjelas isi pesan,
- 3) Membuat cerita semakin rancu
- 4) Meningkatkan nilai estetis

Fungsi dari gambar bercerita yang tepat ditunjukkan oleh nomor....

- ☐ 1 dan 2
- ☐ 2 dan 4
- ☐ 3 dan 4
- ☐ 1 dan 3

26. Berikut ini jenis-jenis reklame

- 1) Lukisan
- 2) Billboard
- 3) Brosur
- 4) Poster

Berdasarkan bentuknya jenis reklame yang paling tepat yaitu....

- ☐ 2 dan 4
- ☐ 1 dan 3
- ☐ 4 dan 1
- ☐ 3 dan 4

27. Perhatikan gambar di bawah ini!



Berdasarkan gambar diatas ciri-ciri poster yang baik adalah....

- ☐ Memuat komposisi-huruf dan gambar
- ☐ Dibuat dengan menggunakan bahasa yang panjang
- ☐ Ukuran poster menyesuaikan dengan tempat pemasangannya
- ☐ Perpaduan warna yang lemah.

28. Perhatikan gambar-gambar berikut ini



A



B



C



D

Dari gambar diatas yang termasuk alat musik ritmis adalah....

- ☐ A dan D
- ☐ B dan C
- ☐ C dan D
- ☐ C dan A

29. Dibawah ini yang termasuk unsur-unsur utama tari yang tepat yaitu....

- ☐ wirasa
- ☐ wisesa
- ☐ wiraga
- ☐ winata

30. perhatikan gambar di bawah ini!



Bahan yang bisa digunakan untuk patung di samping adalah.....

- ☐ Kayu
- ☐ Plastisin
- ☐ Batu
- ☐ lilin

31. Mozaik dalah karya seni ber kertas berwarna dan lain lain. Bahan bahan tersebut disusun dan ditempel menggunakan perekat hingga membentuk karya seni tertentu.

- BENAR
- SALAH

32. Anyaman adalah teknik membuat karya seni rupa yang dilakukan dengan cara menumpang tindihkan (menyilangkan) bahan anyam yang berupa lungsi dan pakan. Anyaman dapat dibuat dari tumbuh-tumbuhan yang sudah dikeringkan, seperti lidi, rotan, akar, dan dedaunan untuk dijadikan suatu rumpun yang kuat (tampar). Anyaman termasuk karya seni rupa murni.

- BENAR
- SALAH

33. Perhatikan gambar berikut.



Pada awalnya tarian piring ini berfungsi sebagai pemujaan untuk dewa. Tarian ini juga dijadikan sebagai sarana untuk menyampaikan ucapan syukur kepada Dewi Sri atau dewi padi yang diyakini masyarakat sebagai dewi kemakmuran.

- BENAR
- SALAH

34. Perhatikan gambar berikut.



Reklame disamping yaitu memiliki tujuan untuk memberi peringatan kepada masyarakat luas. Umumnya, sifatnya komersial karena berisi peringatan untuk membuang sampah pada tempatnya.

- BENAR
- SALAH

35. Dalam seni musik salah satu yang harus kita pahami adalah mengenai interval nada salah satunya adalah septim yaitu interval dari nada satu ke tiga nada di atasnya. Contoh, nada 'do' ke 'mi'.





- BENAR
- SALAH

MENJODOHKAN

36. Indonesia merupakan negara yang memiliki banyak keberanekaragaman, salah satunya adalah tari-tariannya yang memiliki ciri khas masing-masing.

jodohkan gambar tari kreasi daerah dengan nama tariannya

Gambar Tari Kreasi daerah

Tari Saman

Tari Kecak

Tari Remo

Tari merak

37. Berdasarkan jenisnya tangga nada dibagi menjadi tiga yaitu tangga nada diatonis, pentatonis, dan kromatis. Tangga nada pentatonik adalah tangga nada yang menggunakan lima nada pokok pada tiap oktafnya dan berasal dari tangga nada mayor. Berikut ini pasangkanlah jenis lagu bertangga nada pentatonis dengan daerah asalnya!

Suwe Ora Jamu	➡	
Cing Cangkeling	➡	
Macepet-Cepetan	➡	
Keraban Sape	➡	

Jawa Timur

Bali

Jawa Tengah





Jawa Barat

38. Saat ini banyak tari kreasi daerah yang berada dimasyarakat, salah satunya tari kreasi daerah. Tarian ini adalah tari yang berasal dari daerah yang mengalami perubahan pada gerakan tariannya seiring dengan perkembangan zaman namun tidak menghilangkan unsur budayanya. Jodohkanlah nama tarian berikut dengan pola lantainya.

Tari sekapur sirih	→	
Tari kecak	→	
Tari yospan	→	
Tari serimpi	→	

Vertikal
Horizontal
Melingkar
Melengkung

39. Tari merupakan salah satu keanekaragaman budaya bangsa. Salah satu jenis tari yaitu tari kreasi daerah yang ada di Indonesia. Berikut ini jodohkanlah gambar tari kreasi daerah dengan pola lantainya.

	→	<div style="border: 1px solid green; height: 25px; width: 100%;"></div>
	→	<div style="border: 1px solid green; height: 25px; width: 100%;"></div>
	→	<div style="border: 1px solid green; height: 25px; width: 100%;"></div>
	→	<div style="border: 1px solid green; height: 25px; width: 100%;"></div>

melengkung
horizontal
melingkar
vertikal

40. Patung merupakan karya seni rupa tiga dimensi yang memiliki, panjang, lebar dan tinggi. Banyak pengrajin patung ditemukan berada di daerah Bali.