


¡NOMBRA ESE POLÍGONO!

Nombre: _____

Fecha: _____




Cuatro lados




Cinco lados



Seis lados



Siete lados



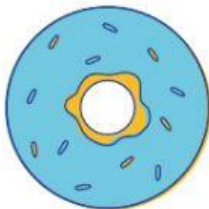
Ocho lados



Nueve lados

Uní las formas

Dibujá una línea desde el objeto a la izquierda con la forma que corresponde.



Observa y cuenta las formas. Responde a las preguntas.



1. ¿Cuántos son rojos?

.....

2. ¿Cuántos son pequeños?

.....

3. ¿Cuántos son triangulares?

.....

4. ¿Cuántos son de cuatro lados?

.....

5. ¿Cuántos tienen más de cuatro lados?

.....

6. ¿Cuántas estrellas hay ahí?

.....

¿DÓNDE ESTÁ MI SOMBRA?

Nombra la forma y combínala dibujándola con su sombra.

