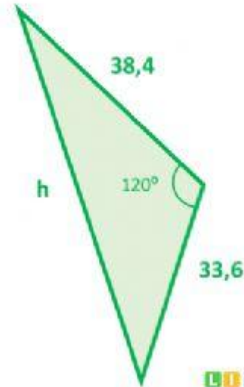
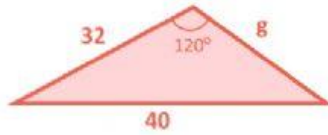
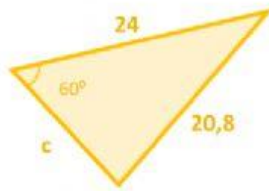
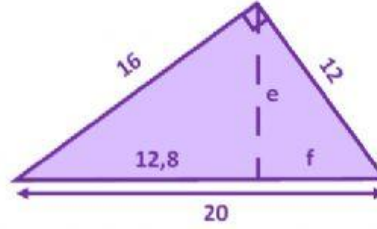
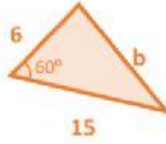
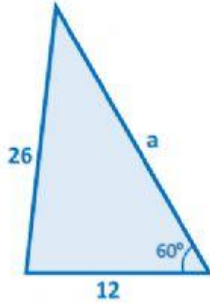


MATES



Calcula los lados desconocidos en los siguientes triángulos. Busca los que se puedan poner en posición de Tales e indica la proporción entre sus lados. En algunos casos deberás rotarlos o voltearlos mentalmente. Redondea los resultados a la décima



Resultados

a =

b =

c =

e =

f =

g =

h =