



PEMERINTAH KABUPATEN LUWU TIMUR
DINAS PENDIDIKAN DAN KEBUDAYAAN
UJIAN SEKOLAH
TAHUN PELAJARAN 2022/2023

LEMBAR SOAL

Mata Pelajaran : SBdP
Nama Siswa :
Hari/Tanggal :
Waktu : 120 Menit

PETUNJUK UMUM

1. Laporkan kepada pengawas Ujian bila terdapat tulisan yang kurang jelas, rusak atau jumlah soal kurang.
2. Jumlah soal 40 Pilihan Ganda
3. Dahulukan mengerjakan soal yang anda anggap mudah
4. Apabila ada jawaban yang anda anggap salah dan ingin memperbaikinya, beri lingkaran jawaban yang salah kemudian beritanda silang jawaban yang benar

Contoh :

A ~~B~~ C D

Setelah diperbaiki menjadi :

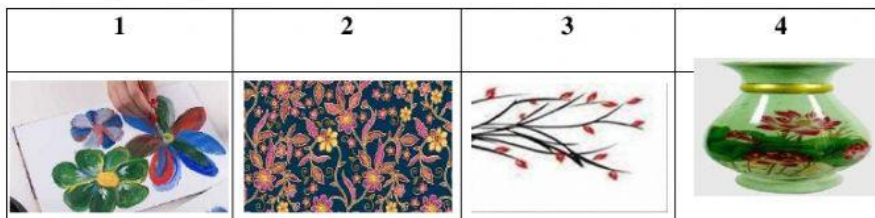
A ~~B~~ C ~~D~~

5. Mintalah kertas kepada pengawas bila diperlukan
6. Periksa pekerjaan anda sebelum diserahkan kepada pengawas Ujian

PETUNJUK UMUM

1. Pilihlah salah satu jawaban yang paling tepat, dengan memberikan tanda silang (X) pada lembar jawaban yang telah disediakan
2. Pilih huruf A, B, C, atau D di bawah ini dengan tepat
3. Setelah usai serahkan pekerjaan anda kepada pengawas Ujian

1. Cermati gambar-gambar berikut!



Yang termasuk gambar tiga dimensi adalah ...

- A. 1 B. 2 C. 3 D. 4

2. Cermati gambar berikut!



Tarian tersebut merupakan jenis tarian tunggal yang berasal dari daerah ...

- A. Jawa Barat C. Jawa Timur
B. Jawa Tengah D. Yogyakarta

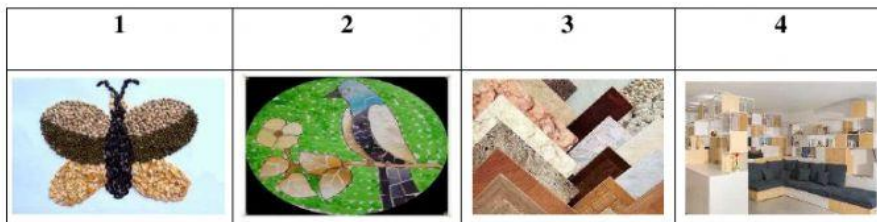
3. Perhatikan tabel berikut ini !

1. Tempelkan satu persatu potongan potongan kertas yang sudah disiapkan pada sketsa atau pola gambar yang telah dibuat.
2. Buatlah sketsa atau gambar pola pada buku gambar sesuai dengan keinginan.
3. Tutup pola secara menyeluruh dengan kertas warna- warni sesuai dengan keinginan.
4. Potong-potong kertas origami/koran dan majalah bekas sesuai warna yang diinginkan menggunakan gunting.

Langkah-langkah yang tepat dalam membuat karya seni mozaik adalah

- A. 1 – 2 – 3 – 4 C. 3 – 1 – 2 – 4
B. 2 – 4 – 1 – 3 D. 4 – 2 – 3 – 1

4. Cermati gambar-gambar berikut!



Gambar tiga dimensi dan bentuknya yang tepat adalah

- A. 1 – montase C. 3 - keramik
B. 2 - mozaik D. 4 - kriya

5. Cermati lirik lagu berikut!

*Gundul gundul pacul cul gembelengan
Nyunggi nyunggi wakul kul gembèlengan
Wakul ngglimpang segané dadi sak latar
Wakul ngglimpang segané dadi sak latar*

Tempo yang tepat untuk lagu tersebut adalah

- A. Allegro C. allegretto
B. Moderato D. presto

6. Pernyataan tanda tempo berikut yang tepat adalah

- A. allegro : sangat lambat dan luhur
B. andante : cepat
C. grave : sangat cepat
D. moderato : sedang

7. Bersifat riang gembira, bersemangat, biasanya diawali dan diakhiri dengan nada Do dan mempunyai pola interval.

Pernyataan tersebut merupakan ciri -ciri dari tangga nada

- A. Minor C. diatonis
B. Mayor D. pentatonic

8.

Amper-ampar Pisang

Do= G 2/4 Moderato Am7 D7 Kalimantan Selatan

0 5 / 1 1 7 1 / 2 5 5 / 2 2 1 2 / 3 / /

Am - par ampar pi - sang pisang - ku ba - lum ma - sak

Lagu tersebut menggunakan tangga nada

- A. diatonik minor B. diatonik mayor C. pentatonik mayor D. pentonik minor

9. Cermati gambar berikut!



Properti yang digunakan dalam gambar tersebut adalah

- A. Tongkat C. kuda lumping
B. Selendang D. topeng

10. Perhatikan tabel dibawah ini !

Nama Tarian		Properti	
1	Tari Kandagan	A	Piring
2	Tari Kancet Papatai	B	Selendang
3	Tari Reog	C	Kipas
4	Tari Piring	D	Topeng
5	Tari Kipas Serumpun	E	Mandau

Pasangan yang tepat dari table diatas adalah

- A. 1-C dan 2-E C. 4-C dan 5-A
B. 2-E dan 3-C D. 3-D dan 5-C

11. Cermati teks bacaan berikut!

Manusia percaya terhadap adanya kekuatan-kekuatan mistik dilakukan dengan seni. Kemudian turunnya agama-agama pun menjadi seni sebagai kegiatan yang tak terpisahkan dari kegiatan keagamaan. Misalnya memuja roh-roh nenek moyang atau para Dewa diwujudkan dengan patung. Menyampaikan dakwah Islam dengan pertunjukan wayang atau drama.

Berdasarkan bacaan diatas, fungsi seni rupa adalah sebagai

- A. media keagamaan C. media pendidikan
B. media komunikasi D. media hiburan

12. perhatikan gambar dibawah ini !



Gambar batik diatas merupakan contoh dari daerah

- A. Banten C. Yogyakarta
B. Pekalongan D. Solo

13. Perhatikan gambar dibawah ini !



Gambar diatas merupakan gambar yang menggunakan teknik menggambar

- A. Arsir C. sketsa
B. Dussel D. blok

14. Seruling, Harmonika, Pianika, Sarone, Telempung merupakan jenis alat musik

- A. Diatonic
- B. Pentatonic
- C. ritmis
- D. melodi

15. Cermati penggalan teks lagu berikut!

Bubuy bulan

Bubuy bulan sangray bentang


Panon pae

Panon pae disasate ...

Lagu daerah tersebut menggunakan tangga nada

- A. daitonis minor
- B. diatonic
- C. ultrasonis
- D. pentatonik

16. Cermati gambar berikut!



Gambar diatas adalah pola lantai

- A. Vertical
- B. Horizontal
- C. melingkar
- D. melengkung

17. Cermati gambar berikut!



Fungsi dari kaya seni rupa tersebut adalah

- A. Dekorasi
- B. Keagamaan
- C. hiasan
- D. monument

18. Cermati tabel berikut!

1	Singkat & jelas
2.	Menarik dan mencolok
3.	Jujur
4.	Dilakukan berulang

Pernyataan-pernyataan tersebut merupakan ciri-ciri dari

- A. Spanduk
- B. Baliho
- C. Reklame
- D. Poster

19. Cermati gambar berikut!



Berdasarkan sifatnya, gambar tersebut termasuk ...

- A. reklame layanan
- B. reklame penerangan
- C. reklame komersial
- D. reklame ajakan

20. Musim hujan sedang melanda ibu kota Jakarta. Sehingga mengakibatkan banjir diberbagai daerah. Dina mendapat tugas untuk membuat reklame bertemakan bencana banjir. Berikut reklame yang sesuai dengan ilustrasi adalah



21. Perhatikan gambar berikut!



Kalimat iklan yang tepat untuk gambar di atas adalah

- A. Apapun makananmu, minumnya Teh Botol Kosro!
- B. Minuman pengganti ion tubuh hanya Potari Sweat!
- C. Rasakan minuman itu dengan bulir utuh dari Si Segar Florodona!
- D. Yuuuk minum Floridina, rasakan kesegarannya setiap hari!

22. Perhatikan gambar di bawah ini!



Berdasarkan sifatnya, perbedaan reklame dari dua gambar di atas adalah

- A. Gambar pertama menawarkan makanan, gambar kedua menawarkan minuman
- B. Gambar pertama bersifat komersial, gambar kedua bersifat non komersial
- C. Gambar pertama memiliki warna yang menarik, gambar kedua kurang menarik
- D. Gambar pertama harganya mahal, gambar kedua harganya murah

23. Perhatikan gambar berikut!



Interval nada C - G disebut kuint murni, memiliki jarak

- A. 3
- B. $3 \frac{1}{2}$
- C. 4
- D. $4 \frac{1}{2}$

24. Pak pak dung pak dung pak pak pak gendang nyaring ditepak

Lanjutan dari lirik lagu di atas adalah

- A. Anak ondel-ondel jejingkrakan
- B. Nyang nonton girang pada surak-surak
- C. Nyang nonton pade kebingungan
- D. Nyok kita ngarak ondel-ondel

25. Perhatikan gambar!



Jenis tangga nada pada gambar di atas adalah

- A. Tangga nada minor harmonis
- B. Tangga nada mayor melodis
- C. Tangga nada minor asli
- D. Tangga nada mayor diatonic

26. Perhatikan tangga nada lagu berikut!



Judul lagu yang tepat pada tangga nada di atas adalah

- A. Aku ingin ke desa
- B. Tak mudah kulupakan
- C. Desaku yang permai
- D. Desaku yang kucinta

27. Tangga nada yang terdiri dari tujuh buah nada, dan menggunakan dua macam jarak nada disebut

- A. tangga nada diatonic
- B. tangga nada pentatonic
- C. tangga nada kromatis
- D. tangga nada aransemen

28. Ciri-ciri tangga nada

- 1. Terdiri dari 7 nada
- 2. Selalu bersemangat
- 3. Biasanya diawali dan diakhiri dengan nada La = A
- 4. Terdiri dari 8 nada

Ciri-ciri tangga nada minor terdapat pada nomor

- A. 1 dan 4
- B. 1 dan 2
- C. 2 dan 4
- D. 3 dan 4

29. Urutan jarak nada pada tangga nada diatonis mayor adalah

- A. 1-1/2-1/2-1-1-1
- B. 1/2-1/2-1-1-1-1-1
- C. 1-1-1/2-1-1-1/2
- D. 1-1/2-1-1-1-1/2

30. Pengertian pola lantai adalah

- A. Garis yang dilalui penari pada saat melakukan gerak tari
- B. Garis yang berpotongan

- C. Garis yang digambar penari pada saat menari
D. Garis yang membatasi penonton dan penari

31. Perhatikan tabel berikut !

Nama Tarian	Asal Daerah
1. Tari Jaipong	P. Sumatera Barat
2. Tari Legong	Q. Aceh
3. Tari Indang	R. Bali
4. Tari Sedauti	S. Jawa Barat

Pasangan yang tepat nama tarian dan asal daerahnya adalah

- A. 1 – P B. 2 – R C. 3 – Q D. 4 – S

32. Perhatikan tabel berikut !

No.	Unsur Tari
1.	Gerak
2.	Penonton
3.	Nama tarian
4.	Busana
5.	Iringan tari
6.	Tata rias

Dari tabel tersebut yang termasuk unsur tari adalah

- A. 3, 4 dan 5 C. 1, 2 dan 4
B. 4, 5 dan 6 D. 1, 3 dan 4

33. Dalam sebuah tarian terdapat pola lantai.

Manfaat pola lantai adalah

- A. pengiring gerak C. mempermudah gerakan
B. menciptakan gerakan D. memperindah gerakan

34. Perhatikan gambar berikut!



Tarian pada gambar tersebut merupakan jenis tarian

- A. Berpasangan B. tunggal C. gabungan D. kelompok

35. Perhatikan gambar berikut!



Tarian tersebut menggunakan pola lantai

- A. Melingkar
B. Diagonal
C. vertical
D. horizontal

36. Berdasarkan jumlah penari, tarian dapat dikelompokkan menjadi tarian tunggal, berpasangan, dan kelompok.

Berikut ini yang termasuk tarian berpasangan adalah

- A. Tari Merak C. Tari Zapin
B. Tari Jaipong D. Tari Legong

37. Perhatikan tabel berikut ini!

No.	Bahan
1.	Air
2.	Tanah liat
3.	Lilin
4.	Cat
5.	Batu
6.	Kayu jati

Dari tabel tersebut yang termasuk bahan pembuat patung adalah

- A. 1, 2, dan 5 C. 3, 5, dan 6
B. 2, 3, dan 4 D. 4, 5, dan 6

38. Perhatikan gambar!



Manfaat dari patung tersebut adalah

- A. mengenang sejarah C. menghias bangunan
B. sarana ritual keagamaan D. dekorasi

39. Bacalah kalimat-kalimat berikut!

1. Sapukan cat pada patung secara merata
2. Campurkan warna cat yang ingin digunakan dengan air secukupnya di dalam palet
3. Aduk cat dan air hingga merata

Urutan mewarnai patung adalah

- A. 4-3-2-1 C. 2-3-1-4
B. 3-4-1-2 D. 1-2-3-4

40. Perhatikan gambar!



Patung tersebut terbuat dari bahan

- A. plastisin
B. tanah liat
C. kardus dan tutup botol logam
D. kardus