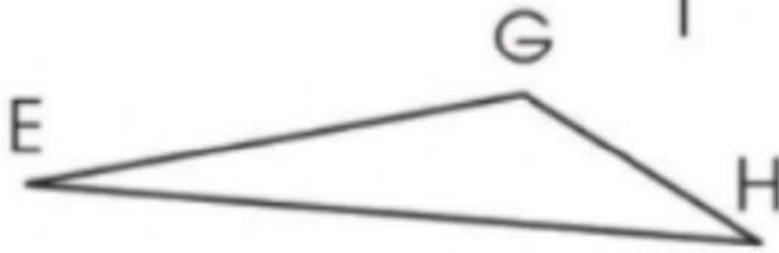
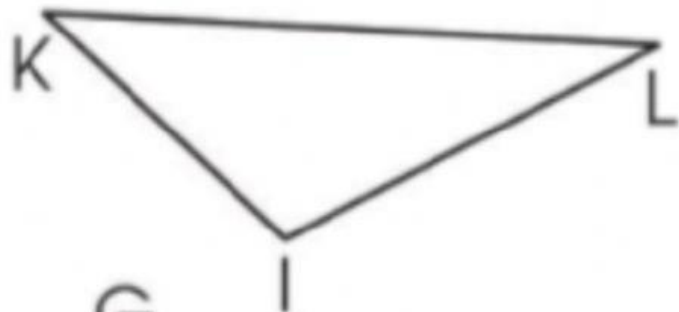


## Bài tập 1: Chọn đáp án đúng.



• Hình bên trên là hình  /  ,  
có  /  đỉnh,

là các đỉnh  /  ,

có  /  cạnh,

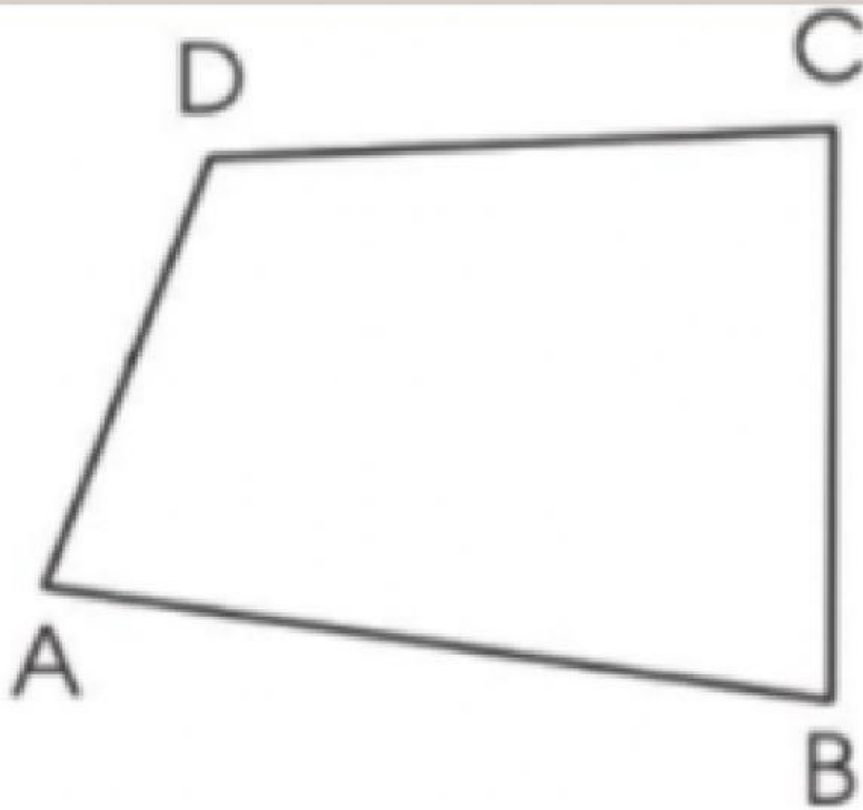
là các cạnh  /  .

• Hình bên dưới là hình  /  ,  
có  /  đỉnh,

là các đỉnh  /  ,

có  /  cạnh,

là các cạnh  /  .



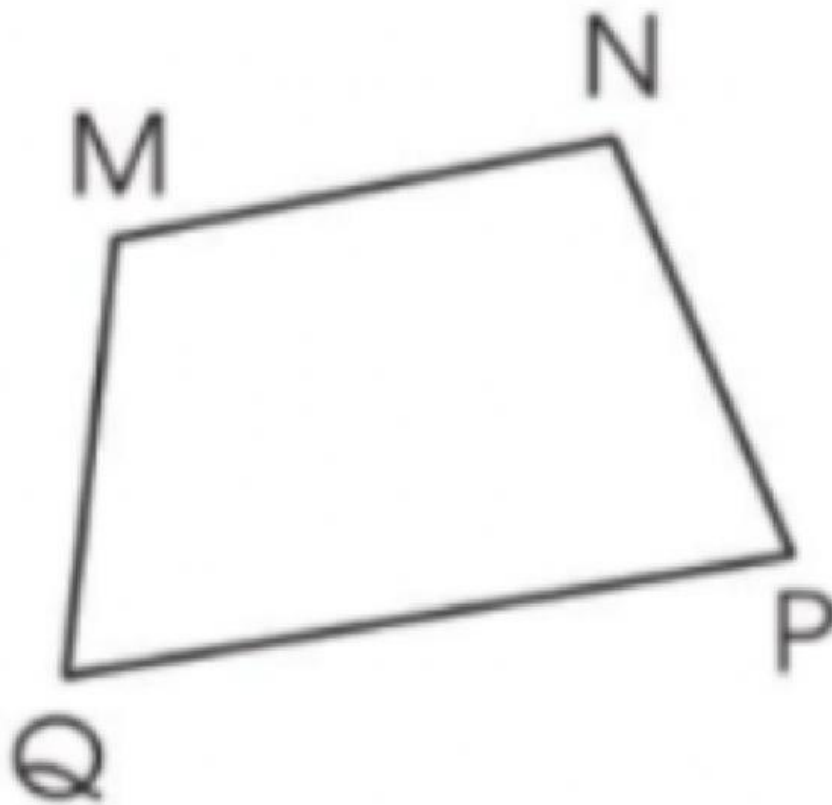
• Đây là hình tam giác / tứ giác ,

có 4 / 3 đỉnh,

là các đỉnh D, E, F, G / A, B, C, D ,

có 4 / 3 cạnh,

là các cạnh AB, BC, CD, DA / AC, BC, BD, DA .



• Đây là hình tam giác / tứ giác ,

có 3 / 4 đỉnh,

là các đỉnh K,L,M,N / M,N,P,Q ,

có 3 / 4 cạnh,

là các cạnh MN,NP,MP,MQ / MN,NP,PQ,QM

## Bài tập 2: Chọn đáp án đúng.

- Hình tam giác là hình có 3 đỉnh, 4 cạnh.  
[Đúng] [Sai]
- Hình có 4 đỉnh, 4 cạnh là hình tứ giác.  
[Đúng] [Sai]
- Hình có 3 đỉnh, 3 cạnh là hình tam giác.  
[Đúng] [Sai]

## Bài tập 3: Điền vào chỗ trống.



- Miếng Pizza có hình
- Mặt bàn có hình