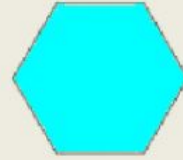



# REPASO MATEMÁTICAS LAS FIGURAS PLANAS

1. Coloca donde corresponda.



Pentágono

Hexágono

Triángulo

Cuadrilátero

2. Une con flechas.

Triángulo equilátero

Triángulo isósceles

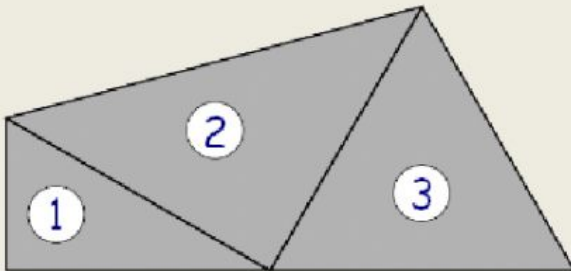
Triángulo escaleno

Sus tres lados son desiguales

Sus tres lados son iguales

Tiene dos lados iguales

3. ¿Cómo se llaman los triángulos que forman esta figura?



1.

2.

3.

4. Une con flechas.

Paralelogramo

Trapezio

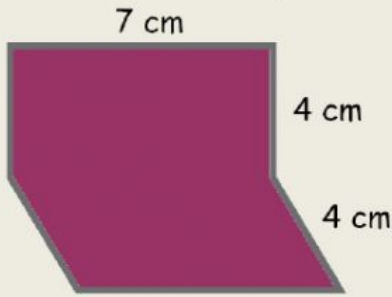
Trapezoide

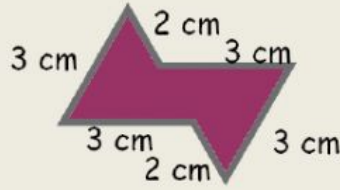
Sólo dos lados paralelos

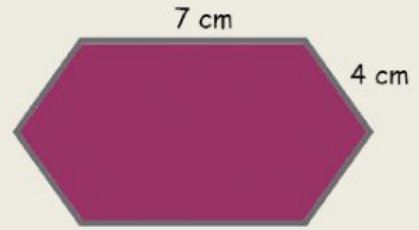
Sin lados paralelos

lados paralelos dos a dos

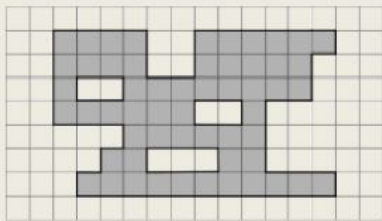
5. Calcula el perímetro de estas figuras.

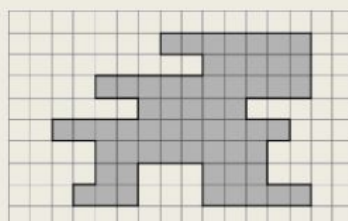


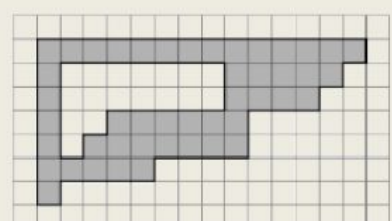





6. Calcula el área en cuadraditos de estas figuras.





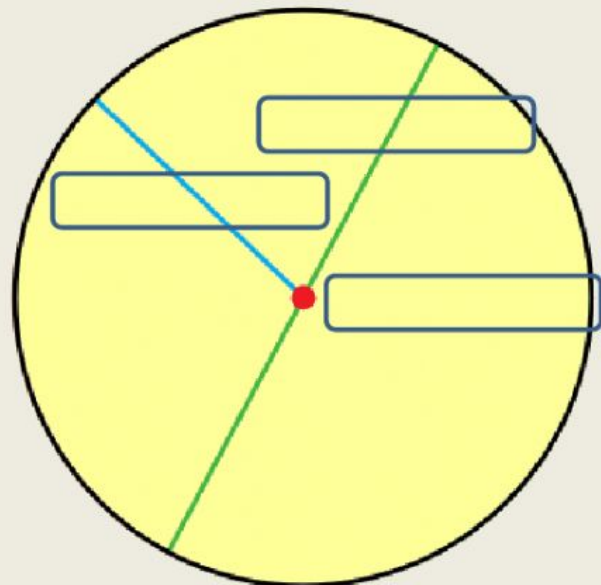



7. Coloca las partes de una circunferencia.

Centro

Radio

Diámetro



8. Círculo o circunferencia.







