







Nama :

Kelas :

Matematika

I. Berilah tanda silang (X) pada huruf A, B, C atau D di depan jawaban yang paling tepat !

1. Hasil dari $2.554 + 6.436$ adalah
A. 8.990 B. 8.991 C. 8.992 D. 8.993
2. Hasil dari $4.328 + 2.323$ adalah
A. 6.351 B. 6.451 C. 6.551 D. 6.651
3. Hasil dari $3.085 + 3.824$ adalah
A. 6.908 B. 6.909 C. 6.910 D. 6.911
4. Hasil dari $5.540 + 2.311$ adalah
A. 7.851 B. 7.852 C. 7.853 D. 7.854
5. Hasil $5.802 + 3.449$ adalah
A. 9.250 B. 9.251 C. 9.252 D. 9.253
6. Di bawah ini yang merupakan uang **sepuluh ribu rupiah** adalah . . .
A.  C. 
B.  D. 
7. Di bawah ini yang merupakan gambar uang **lima puluh ribu rupiah** adalah



8. Di bawah ini yang merupakan gambar uang **lima ribu rupiah** adalah



9. Di bawah ini yang merupakan gambar uang **seribu rupiah** adalah



10. Di bawah ini yang merupakan gambar uang **seratus ribu rupiah** adalah



II. Jawablah pertanyaan di bawah ini dengan cara menempel pilihan jawaban yang disediakan!

11.   =

Rp 10.000 + **Rp 5.000** =

12.   =

Rp 5.000 + **Rp 2.000** =

13.   =

Rp 5.000 + **Rp 1.000** =

14.   =

Rp 5.000 + **Rp 5.000** =

15.   =

Rp 20.000 + **Rp 1.000** =