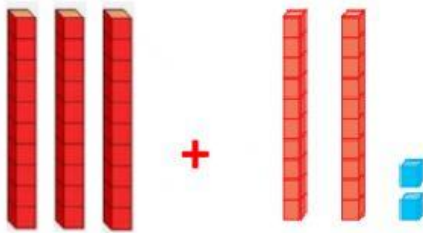


Diviértete

1. Resuelve las adiciones con el apoyo de base 10.

a)



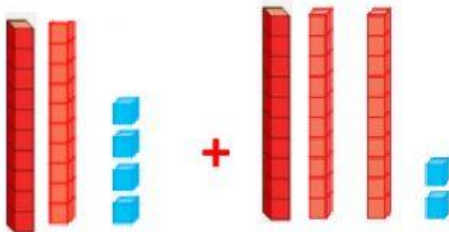
	D	U
+		

b)



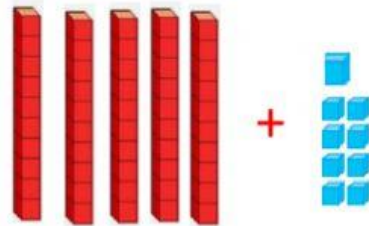
	D	U
+		

c)



	D	U
+		

d)



	D	U
+		