



LENGKAPI IDENTITASMU DULU YUK!

Nama:

Kelas:

Kerjakan Latihan Soal dibawah ini dengan teliti!

Pilihlah jawaban yang tepat dengan klik jawaban yang kamu pilih!

COVID 19 MERAMBAH ASEAN



1



Sejak Januari 2020, sejenis virus menimbulkan kegaduhan di Provinsi Wuhan Cina. Kemudian menyebar ke banyak negara. Diagram berikut merupakan data penderita yang sembuh dari wabah Covid-19 di beberapa negara ASEAN. Urutan negara-negara tersebut berdasarkan banyak penderita yang sembuh dilanjutkan dengan abjad nama negara secara meningkat adalah

- A. Brunei, Filipina, Indonesia, Thailand, Kamboja, Malaysia, Singapura, Vietnam.
- B. Singapura, Malaysia, Vietnam, Indonesia, Filipina, Kamboja, Brunei, Thailand.
- C. Thailand, Brunei, Kamboja, Filipina, Indonesia, Vietnam, Malaysia, Singapura.
- D. Thailand, Filipina, Brunei, Indonesia, Kamboja, Vietnam, Malaysia, Singapura

Jawablah pertanyaan dibawah ini dengan klik pernyataan benar atau salah!

COVID 19 MERAMBAH ASEAN



Dengan melihat diagram berikut. Tentukan benar dan salah dari pernyataan berikut!

Pernyataan	Benar	Salah
Negara dengan rasio kesembuhan terendah adalah negara Thailand	<input type="radio"/>	<input type="radio"/>
Singapura adalah negara yang memiliki penderita Covid-19 terbanyak	<input type="radio"/>	<input type="radio"/>
Indonesia merupakan negara yang memiliki jumlah penderita tertinggi	<input type="radio"/>	<input type="radio"/>

Pilihlah jawaban yang tepat dengan klik jawaban yang kamu pilih!

RATING TOKO ONLINE

Jika Ali akan membeli earphone dari toko online dengan melihat rating yang diberikan oleh customer. Berikut ini adalah rating yang diberikan oleh customer terhadap kualitas earphone yang dijual dari toko online tersebut!

Rating adalah skor berupa bintang yang diberikan pembeli kepada penjual berdasarkan kualitas barang dan pelayanan penjual

No. ID	Rating	No. ID	Rating
1	★★★★★	6	★★★★★
2	★★★★★	7	★★★★★
3	★★★★★	8	★★★
4	★★★★	9	★★★
5	★★★★	10	★★★★★

3

Berapakah rata-rata dari rating yang diberikan oleh pembeli pada data tersebut?

- A. 3, 8 B. 3, 9 C. 4, 2 D. 4, 4

4

Berapakah median dari rating yang diberikan oleh pembeli pada data tersebut?

- A. 5 B. 4 C. 3 D. 6



Jawablah pertanyaan dibawah ini dengan klik pernyataan benar atau salah!

RATING TOKO ONLINE

Salah satu hal yang diperhatikan pembeli saat membeli sesuatu adalah suatu ulasan dari produk itu sendiri. Pembeli akan berusaha mencari informasi terkait dengan rating produk tersebut melalui pengalaman berbelanja orang lain.

No. ID	Rating	No. ID	Rating
1	★★★★★	6	★★★★★
2	★★★★★	7	★★★★★
3	★★★★★	8	★★★
4	★★★★	9	★★★
5	★★★★	10	★★★★★

Rating adalah skor berupa bintang yang diberikan pembeli kepada penjual berdasarkan kualitas barang dan pelayanan penjual

5

Dari pernyataan berikut. Berapakah modus data yang paling sering keluar dari rating yang berikan oleh pembeli?

A. 3

B. 4


C. 5

D. 10

✨ Pilihlah jawaban yang tepat dengan klik jawaban yang kamu pilih! ✨

6

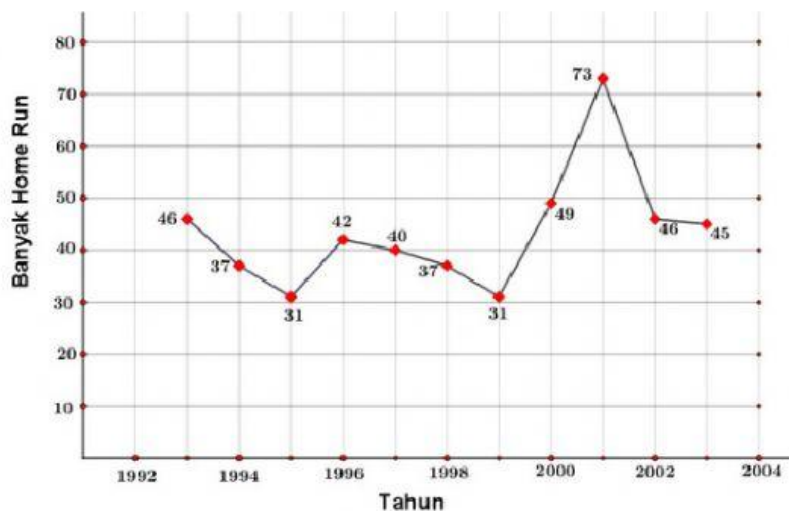
Diagram lingkaran di bawah menunjukkan pendidikan orangtua siswa di suatu sekolah. Jika jumlah orang tua siswa di sekolah tersebut 900 orang, banyak orang tua siswa yang berpendidikan SMP adalah..



- A. 385 Orang
- B. 375 Orang
- C. 350 Orang
- D. 315 Orang

7

Grafik di bawah menunjukkan jumlah Home Run yang dilakukan oleh Barry Bond dari tahun 1993 sampai 2003.



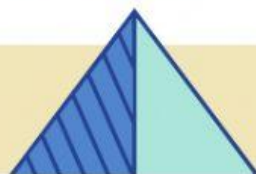
Selisih Home Run Barry Bond antara tahun 1998 sampai 1999 adalah...

A. 3

B. 4

C. 5

D. 6



✨ Pilihlah jawaban yang tepat dengan klik jawaban yang kamu pilih! ✨

8

Pohon-pohon melepaskan air melalui daun-daunnya yang disebut transpirasi. Tabel berikut menunjukkan kecepatan rata-rata air yang terlepas dari daun-daun pohon di sebuah taman pinggiran kota.

pohon	Kecepatan rata-rata air yang terlepas setiap hari dalam miligram per sentimeter persegi
<i>Grindelia</i>	29
<i>Bottlebrush</i>	33
<i>Oak</i>	42
<i>Sycamore</i>	38

Pasangkan jawaban yang menurut Anda benar!

Berapakah median dari kecepatan air yang terlepas setiap hari?

Pohon Oak

Pohon apakah yang memiliki nilai kecepatan rata-rata air yang terendah?

35,5 miligram per centimeter persegi

Pohon apakah yang memiliki nilai kecepatan rata-rata air yang tertinggi?

Pohon Grindelia



Get moving! ✓

✨ Pilihlah jawaban yang tepat dengan klik jawaban yang kamu pilih! ✨

"LOMBA LOMPAT JAUH"

Hasil dari suatu perlombaan lompat jauh di suatu sekolah dilaporkan sebagai berikut:

9

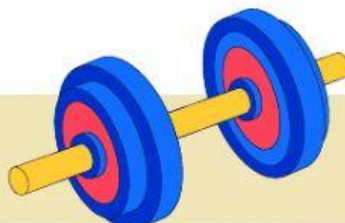


Rata - Rata Panjang Lompatan	
TIM A	3,6 m
TIM B	4,8 m

Banyak anggota dalam setiap tim adalah sama.

Manakah pernyataan berikut yang benar tentang hasil perlombaan tersebut?

- A. Setiap siswa di Tim B melompat lebih jauh daripada siswa di tim A
- B. Setelah setiap siswa di tim A melompat, ada salah seorang siswa di tim B yang melompat lebih jauh
- C. Sebagai sebuah grup, tim B melompat lebih jauh daripada tim A
- D. Beberapa siswa di tim A melompat lebih jauh dari beberapa siswa di tim B





Pilihlah jawaban yang tepat dengan klik jawaban yang kamu pilih!



WAKTU DEKOMPOSISI"

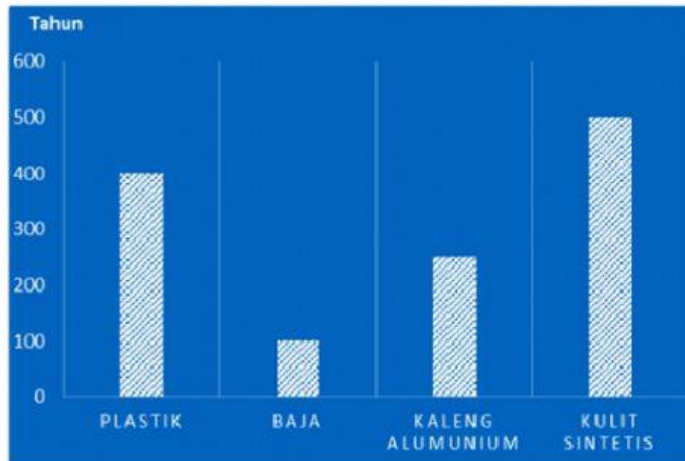
Setiap material sampah akan mengalami penguraian. Materi sampah dapat berupa sampah organik dan sampah anorganik. waktu yang diperlukan untuk mengurai sempurna disebut sebagai waktu dekomposisi. Berikut waktu dekomposisi berdasarkan jenis material sampah.

Tabel Waktu Dekomposisi Sampah Organik



Material Organik	Waktu Dekomposisi
Kulit Pisang	6 minggu
Kulit Jeruk	5 bulan
Kantong kertas	8 minggu
Sisa apel	2 bulan
Kertas tisu	5 minggu

Diagram Waktu Dekomposisi Sampah Anorganik



Sampah anorganik lebih lama terurai dibandingkan sampah organik. waktu dekomposisi popok sekali pakai lebih lama dari plastik, namun kurang dari kulit sintetis. berapa waktu dekomposisi yang mungkin dari popok sekali pakai?

A. 250 Tahun

C. 475 Tahun

B. 375 Tahun

D. 575 Tahun

