

PROBLEMAS


1. Resuelve el problema

Alejandra está completando un puzle del sistema solar. El puzle tiene 89 piezas y ya ha colocado 53. ¿Cuántas piezas le faltan para terminarlo?




- Escribe los datos.

- Realiza la operación.



- Escribe la solución.


2. Resuelve:



Sonia tenía en su ordenador 67 dibujos, creados con su programa de dibujo favorito. Esta semana ha dibujado 29 más. ¿Cuántos dibujos tiene ahora en su ordenador?

- Escribe los datos.

- Realiza las operaciones.



- Escribe la solución.

3. Lee el problema y responde:

PITÓN RETICULADA	ANACONDA VERDE
	
18 pies	15 pies

La pitón reticulada y la anaconda verde son las serpientes más largas del mundo. ¿Cuántos pies miden entre las dos?

- Escribe los datos y completa.

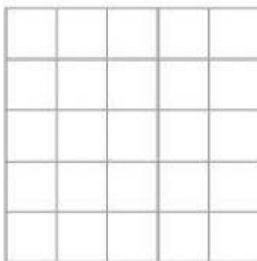
La anaconda mide

La pitón mide

- Rodea la operación adecuada y calcula.

$$18 + 15$$

$$18 - 15$$



Entre las dos miden pies.

4. Lee y señala las monedas que te piden:



Quiero comprar una piruleta de 25 céntimos y un chicle de 50 céntimos.



Quiero comprar un globo de 5 céntimos y unas pegatinas de 60 céntimos.

