

TUGAS

MEMBUAT SOAL LKPD LIVEWORKSHEET

A. Soal Pilihan Ganda

Serangga dapat berjalan pada permukaan air karena

- A. tegangan permukaan
- B. gaya Archimedes
- C. berat jenisnya sama dengan air
- D. berat jenisnya lebih besar dari air
- E. berat jenisnya lebih kecil dari air

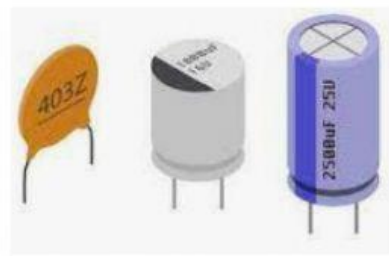
B. Soal Isian Singkat dan Paragraf

1. Sebuah pompa hidrolik membuat massa-massa besar bisa diangkat dengan gaya-gaya kecil sebagai hasil dari prinsip hukum



2. Umumnya alat memasak terbuat dari logam karena

C. Soal Drop Down



D. Soal Check Box

Yang merupakan besaran pokok adalah

Panjang


Masa

Waktu

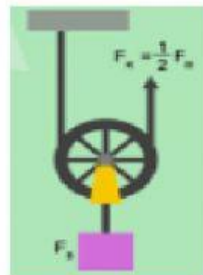
Arus

Energi

E. Soal Join Arrow



Katrol Bebas



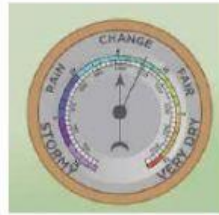
Katrol Tetap



Katrol Majemuk

F. Soal Drag and Drop

Pindahkan alat di bawah ini ke kotak yang tepat



Barometer



Stopwatch



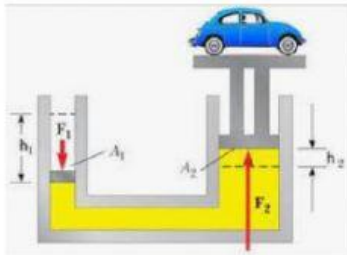
Speedometer



Termometer

G. Soal Listening

Dari gambar soal berikut menggunakan ptinsip hokum ...



Benar

Benar



Benar

Benar

H. Soal Speaking



I. Soal Word Search

Cari kata : Prisma, Lensa, Cermin, Optik

A	C	O	P	T	I	K	I
L	N	M	P	O	Q	C	R
S	U	T	R	V	W	E	Z
L	E	N	I	A	C	R	X
L	E	N	S	A	T	M	U
P	G	L	M	M	S	I	V
E	J	M	A	P	T	N	K
F	O	P	L	E	N	S	A