

**DINAS PENDIDIKAN, KEPEMUDAAN, DAN OLAHRAGA
KABUPATEN MAGETAN
SIMULASI TES SUMATIF TINGKAT SEKOLAH DASAR
TAHUN PELAJARAN 2022/2023**

Mata Pelajaran : Ilmu Pengetahuan Sosial (IPS)
Kurikulum : Kurikulum 2013
Satuan Pendidikan : Sekolah Dasar (SD)

Nama Siswa :

PILIHAN GANDA

- Emas, perak, besi, dan minyak bumi, merupakan contoh sumber daya alam yang dapat dikelompokkan dalam
 - Hasil laut
 - Hasil hutan
 - hasil kebun
 - hasil tambang
- Karapan sapi merupakan pertunjukan khas masyarakat yang digelar setiap tahun pada bulan Agustus dan September. Pada perlombaan ini, sepasang sapi menarik semacam kereta dari kayu dipacu dalam lomba adu cepat melawan pasangan-pasangan sapi lain. Lintasan pacuan tersebut sepanjang 100 meter. Budaya Karapan Sapi berasal dari ...
 - Banyuwangi
 - Ponorogo
 - Madiun
 - Madura
- Wilayah pantai merupakan dataran yang berbatasan langsung dengan laut. Wilayah ini kaya akan sumber daya laut dan mempunyai pemandangan indah. Kegiatan ekonomi ini atau pekerjaan yang cocok dilakukan oleh masyarakat yang tinggal di daerah pantai adalah...
 - Berkebun dan bertani
 - Peternak dan buruh pabrik
 - Nelayan dan pemandu wisata
 - Pedagang dan petani hortikultura

4. Perhatikan table nama hewan berikut !

No.	Nama Hewan
1	Harimau
2	Komodo
3	Orang Utan
4	Kanguru
5	Burung Maleo
6	Burung Cenderawasih

Hewan yang termasuk kelompok hewan fauna Australia adalah...

- Harimau dan Orang Utan
 - Komodo dan Burung Maleo
 - Kanguru dan Burung Cenderawasih
 - Orang Utan dan Komodo
5. Interaksi individu dengan kelompok adalah interaksi yang dilakukan oleh seseorang dengan sekumpulan orang lainnya. Dibawah ini yang termasuk contoh interaksi individu dengan kelompok adalah ...
- Seorang dokter memeriksa kondisi pasien
 - Pertandingan sepak bola antar kesebelasan
 - Terjadi tawar menawar antar penjual dan pembeli
 - Seorang guru memberi pembelajaran dihadapan para siswa di kelas

6. Perhatikan table kegiatan ekonomi di bawah ini !

No.	Kegiatan Ekonomi
1	Petani menanam padi di sawah
2	Siswa mengenakan seragam ke sekolah
3	Sopir membawa hasil pertanian ke kota
4	Pedagang berjualan di pasar

Kegiatan yang menggambarkan peran produsen dalam kegiatan ekonomi ditunjukkan oleh nomor


...

- (1)
- (2)
- (3)
- (4)

7. Pada akhir abad ke 15 bangsa Eropa mulai melakukan penjelajahan samudra di dunia, termasuk datang ke Indonesia. Berikut ini factor-faktor pendorong kedatangan bangsa Eropa di Indonesia, **kecuali** ...
- Mencari dan berdagang rempah-rempah
 - Menyebarkan dan mengajarkan agama
 - Mencari kekayaan dan daerah kekuasaan baru
 - Mengembangkan perkembangan teknologi ke Negara lain
8. Ketika Jepang mulai mengalami banyak kekalahan dan terdesak oleh tentara sekutu, penjajah ini pun mulai bersiasat untuk memberikan kemerdekaan kepada bangsa Indonesia. Sejak saat itu, Jepang mulai membentuk berbagai badan untuk mempersiapkan kemerdekaan Indonesia yaitu ...
- BPUPKI
 - KPU
 - KNIP
 - BPBD
9. Negara di Asia Tenggara ini menyimpan kekayaan yang bersumber dari cadangan minyak dan gas alam, sehingga disebut sebagai Negara Petro Dollar. Negara tersebut adalah ...
- Singapura
 - Indonesia
 - Thailand
 - Brunei Darussalam
10. Negara ini dikepung oleh lima Negara yaitu Vietnam, China, Myanmar, Thailand, dan Kamboja. Sehingga Negara ini disebut sebagai "The Land Locked Country". Negara yang dimaksud adalah ...
- Malaysia
 - Indonesia
 - Laos
 - Singapura
11. Perhatikan gambar di bawah ini !



Pernyataan di bawah ini yang menunjukkan kondisi geografis Negara dengan bendera di atas adalah ...

- Negara yang tidak mempunyai wilayah laut
 - Negara kepulauan terbesar di Asia Tenggara
 - Negara di Asia Tenggara yang mempunyai 2 iklim
 - Negara pulau yang terletak di sebelah selatan semenanjung Malaka
12. Perhatikan gambar di bawah ini !
- 
- Alexander Graham Bell adalah ilmuwan asal Inggris. Pada tahun 1876 beliau menemukan alat yang dapat mengubah listrik menjadi suara. Nama alat yang ditemukan oleh tokoh tersebut adalah ...
- Radio
 - Telepon
 - Mesin Uap
 - Televisi
13. Teknologi terus mengalami inovasi dan perkembangan dalam berbagai bidang kehidupan, termasuk membuat kehidupan di masyarakat lebih modern. Adapun salah satu ciri-ciri masyarakat modern adalah ...
- Masyarakat lebih konsumtif
 - Tetap berpegang teguh dengan tradisi nenek moyang
 - Ikut dalam melestarikan budaya daerah
 - Pendidikan masih konvensional

14. Teknologi terus mengalami inovasi dan perkembangan dalam berbagai sector. Termasuk modernisasi dalam alat transportasi. Dampak positif modernisasi transportasi dalam bidang ekonomi adalah ...
- Pendidikan semakin merata
 - Perubahan gaya hidup masyarakat
 - Kegiatan distribusi barang berjalan dengan cepat
 - Mempermudah perjalanan ke suatu tempat
15. Perhatikan pernyataan – pernyataan di bawah ini !
- Perubahan dalam konsep ruang dan waktu
 - Perubahan dalam sistem politik
 - Peningkatan intensitas kultural melalui media massa internasional
 - Munculnya masalah perdagangan di negara sendiri
 - Pasar dan produksi ekonomi di negara-negara yang berbeda menjadi saling bergantung
- Berikut yang tergolong dari globalisasi adalah ...
- 1,2, dan 3
 - 1,3, dan 5
 - 3,4, dan 5
 - 2,3, dan 4

16. Perhatikan tabel di bawah ini !

No.	Bidang	Dampak Positif
1	Pendidikan	Terbuka lapangan kerja
2	Ilmu Pengetahuan dan Teknologi	Adanya penemuan-penemuan baru
3	Ekonomi	Kemudahan akses belajar
4	Sosial	Timbulnya pola hidup konsumtif

Berdasarkan tabel di atas , dampak positif modernisasi dengan bidangnya yang tepat ditunjukkan oleh nomor ...

- 1
 - 2
 - 3
 - 4
17. AFTA (*ASEAN Free Trade Area*) merupakan bentuk kerjasama Negara-negara ASEAN dalam bidang ...
- Politik
 - Budaya
 - Teknologi
 - Ekonomi
18. Tokoh yang merumuskan naskah proklamasi kemerdekaan adalah ...
- Ir. Soekarno, Moh. Hatta, Sukarni
 - Ir. Soekarno, Ahmad Soebardjo, Sayuti Melik
 - Ir. Soekarno, Moh. Hatta, Latief Hendraningrat
 - Ir. Soekarno, Moh. Hatta, Ahmad Soebardjo

19. Perhatikan gambar tokoh di bawah ini !

Peran tokoh pada gambar dalam persiapan proklamasi kemerdekaan adalah

...

- Pengibar bendera merah putih
- Menjahit bendera merah putih
- Menyusun teks proklamasi
- Mengetik teks proklamasi



20. Sebagai generasi penerus, pelajar berperan untuk mengisi dan mempertahankan kemerdekaan. Contoh kewajiban yang dapat dilakukan pelajar dalam mempertahankan kemerdekaan adalah ...
- Mengembangkan potensi untuk meraih prestasi
 - Mematuhi peraturan sekolah apabila ada guru
 - Menggunakan waktu belajar untuk bermain
 - Membantu teman yang kesulitan saat ulangan

PILIHAN GANDA KOMPLEKS

21. Perhatikan tabel di bawah ini !

No.	Manfaat Sumber Daya Alam
1	Sumber energy dan bahar bakar
2	Mencegah terjadinya abrasi di pantai
3	Untuk kebutuhan makan manusia dan hewan
4	Tempat hidup dan berkembangbiak ikan
5	Sumber protein

Manfaat tanaman bakau (mangrove) ditunjukkan oleh nomor ...

- 1 dan 3
- 2 dan 4
- 3 dan 5
- 1 dan 5

22. Perhatikan tabel di bawah ini !

No.	Alat Musik	Asal Daerah
1	Angklung	Jawa Tengah
2	Sasando	NTT
3	Gamelan	Jawa Barat
4	Kolintang	Sulawesi Utara

Berdasarkan data di atas, pasangan nama alat music tradisional dan asal daerahnya yang benar ditunjukkan oleh nomor ...

- 2 dan 4
- 1,2, dan 3
- 2 dan 3
- Hanya 2

23. Perhatikan tabel di bawah ini !

No.	Waktu	Wilayah
1	Waktu Indonesia Timur (WIT)	Maluku dan Papua
2	Waktu Indonesia Tengah (WITA)	Kalimantan, Jawa , Bali, dan Sulawesi
3	Waktu Indonesia Barat (WIB)	Sumatra,Jawa , dan Kalimantan

Berdasarkan data di atas, wilayah yang sesuai ditunjukkan oleh nomor ...

- 1 dan 2
- 1 dan 3
- Hanya 1
- 2 dan 3

24. Perhatikan tabel di bawah ini !

No.	Kegiatan Ekonomi
1	Petani menanam jagung di sawah
2	Nelayan menangkap ikan di laut
3	Siswa mengenakan seragam sekolah
4	Pedagang berjualan di pasar
5	Sopir mengantarkan penumpang

Berdasarkan data di atas, kegiatan yang menggambarkan peran produsen dalam kegiatan ekonomi ditunjukkan oleh nomor ...

- Hanya 1
- 2, 3 dan 5
- Hanya 1
- 1 dan 2

25. Setelah merdeka , bangsa asing berusaha untuk kembali menguasai wilayah Indonesia. Hal ini menyebabkan rakyat Indonesia kembali bersatu untuk mempertahankan kemerdekaan Indonesia melalui berbagai pertempuran. Berikut pertempuran yang dilakukan oleh rakyat Indonesia adalah ...

- Pertempuran Lima Hari di Semarang
- Pertempuran Linggarjati
- Pertempuran Bandung Lautan Api
- Pertempuran Renville

26. Perhatikan tabel di bawah ini !

No.	Tokoh Pendiri ASEAN	Asal Negara
1	Adam Malik	Indonesia
2	Tun Abdul Razak	Brunei
3	Thanat Khoman	Thailand
4	S. Rajaratnam	Vietnam
5	Narsisco Ramos	Filiphina

Berdasarkan data di atas, pasangan tokoh pendiri ASEAN dan asal Negara yang benar ditunjukkan oleh nomor ...

- 1 dan 3
 - 1,2, dan 3
 - Hanya 1
 - 3, 4, dan 5
27. Negara ini terdiri dari dua pulau besar, yaitu Pulau Luzon dan Pulau Mindanau. Di Negara ini terdapat banyak pegunungan karena Negara ini termasuk rangkaian pegunungan Sirkum Pasifik. Bahasa dari Negara ini adalah Tagalog sedangkan mata uangnya adalah Peso. Negara yang dimaksud adalah Negara ...
- Thailand
 - Kamboja
 - Indonesia
 - Filipina
28. Pada zaman globalisasi saat ini , banyak alat transportasi yang memudahkan mobilitas masyarakat. Permintaan akan produksi kendaraan pun semakin meningkat karena masyarakat ingin memiliki kendaraan sendiri-sendiri. Dampak negative adanya transportasi modern tersebut adalah ...
- Menambah kemacetan di jalan raya
 - Menimbulkan pencemaran udara
 - Waktu perjalanan menjadi lebih singkat
 - Penggunaan bahan bakar minyak berkurang
29. MEA atau Masyarakat Ekonomi ASEAN merupakan bentuk kerjasama antar Negara ASEAN di bidang ekonomi. MEA memberikan banyak dampak positif bagi Negara anggota ASEAN. Salah satunya adalah Indonesia. Berikut ini yang merupakan dampak positif dari MEA bagi Indonesia adalah ...
- Lancarnya kegiatan ekspor dan impor
 - Tingginya pajak dan biaya impor antar negara
 - Menurunnya pendapatan per kapita masyarakat
 - Investasi dari luar Negara ASEAN meningkat
30. Proklamasi kemerdekaan merupakan peristiwa penting yang memiliki makna mendalam bagi bangsa Indonesia. Berikut makna proklamasi kemerdekaan bagi bangsa Indonesia adalah ...
- Puncak perjuangan bangsa Indonesia dalam meraih kemerdekaan
 - Tonggak awal berdirinya Negara Indonesia yang merdeka dari penjajah bangsa asing
 - Bangsa Indonesia tidak memiliki kedudukan dan derajat yang sama di mata dunia
 - Berakhirnya tugas Ir. Soekarno sebagai tokoh perjuangan kemerdekaan dan presiden Indonesia

BENAR/SALAH

31. Daerah tempat Tono tinggal sangat sejuk karena terletak 700 meter di atas permukaan laut. Pekerjaan yang cocok untuk para penduduk yang tinggal di daerah Tono berdasarkan kondisi geografisnya adalah petani kopi atau cengkih.

- **BENAR**
- **SALAH**

32. Jika kita membuang sampah sembarangan ke sungai dapat menyebabkan air sungai berbau tidak sedap, sungai menjadi sarangan nyamuk, dan jika meluap dapat menyebabkan banjir. Hal tersebut merupakan dampak negative dari bentuk interaksi antara tindakan manusia yang membuang sampah di sungai dan lingkungan.

- **BENAR**
- **SALAH**

33. Perhatikan tabel di bawah ini !

No.	Dampak Positif	Bidang
1	Tingginya tingkat pendidikan	Pendidikan
2	Mendorong pertumbuhan ekonomi negara	Ekonomi
3	Mobilitas semakin cepat	Ekonomi
4	Meningkanya penggunaan internet dan handphone	Teknologi

Pernyataan di atas merupakan salah satu contoh pasangan dampak positif sesuai dengan bidangnya.

- **BENAR**
- **SALAH**

34. The ASEAN Rock Salt-Soda Ash Project merupakan wujud kerjasama industri ASEAN berupa pendirian dan pengembangan pabrik abu soda yang dioperasikan di Singapura. Selain itu, ASEAN juga berhasil mendirikan beberapa pabrik untuk kepentingan dan kemajuan bersama.




- **BENAR**
- **SALAH**

35. Dikenal sebagai Bapak Proklamator, Soekarno berperan dalam pembacaan teks proklamasi yang mengukuhkan kemerdekaan Indonesia. Selain itu, pria asal Blitar ini juga dikenal akan perjuangan-perjuangannya dalam meraih kemerdekaan. Soekarno merupakan Ketua PPKI yang bertugas dalam mempersiapkan kemerdekaan Indonesia.

- **BENAR**
- **SALAH**

MENJODOHKAN

36. Pada masa lalu Indonesia memiliki banyak kerajaan bercorak Hindhu, Budha, dan Islam. Salah satunya adalah kerajaan bercorak Budha. Jodohkanlah peninggalan bercorak Budha di bawah ini dengan namanya ! (Geser kotak ke ke kolom yang sesuai !)




	→	<input type="text"/>
	→	<input type="text"/>
	→	<input type="text"/>

CANDI MENDHUT

CANDI BOROBUDUR

CANDI MUARA TAKUS

37. Memasuki abad ke – 20, perlawanan bangsa Indonesia berubah dari yang bersifat kedaerahan menjadi nasional. Hal ini didorong oleh kemunculan organisasi-organisasi yang menyadarkan pentingnya persatuan dan kesatuan. Jodohkanlah gambar tokoh di bawah ini sesuai dengan daerah perjuangannya ! (Geser kotak ke ke kolom yang sesuai !)


	→	<input type="text"/>
	→	<input type="text"/>
	→	<input type="text"/>

E.F.E. DOUWES DEKKER

MOH. HATTA

Dr.CIPTO MANGUNKUSUMO

38. Pada zaman modernisasi banyak terjadi perubahan social budaya pada seluruh lapisan masyarakat. Perubahan tersebut menimbulkan perilaku positif dan perilaku negative dimana perilaku negative tersebut perlu dihindari. Jodohkanlah gambar dengan kegiatan yang sesuai ! (Geser kotak ke ke kolom yang sesuai !)



GAYA HIDUP
KEBARAT-BARATAN

KONSUMTIF

INDIVIDUALISME

39. Secara garis besar, komoditas ekonomi di Indonesia dibagi ke dalam dua kelompok sektor yaitu migas dan non migas. Sektor non migas terdiri dari subsektor pertanian, pertambangan dan bahan galian, serta industri pengolahan. Jodohkan komoditas di bawah ini sesuai dengan komoditas ekspor non migas !

Komoditas Ekspor Non Migas Indonesia •

- Kelapa sawit
- Batu bara
- Minyak bumi
- Kopi
- Teh
- Gas alam
- Avtur
- Pelumas
- Cengkih
- Karet

40. Tujuan negara Indonesia dirumuskan berlandaskan nilai-nilai Pancasila serta mengarah pada segi nasional dan internasional. Tujuan negara dibuat tidak hanya untuk mencari kekuasaan semata, tetapi untuk mencapai kemakmuran dan kesejahteraan seluruh masyarakatnya. Jodohkan tujuan nasional bangsa Indonesia dalam Pembukaan UUD 1945 !

Bahwa sesungguhnya kemerdekaan itu ialah hak segala bangsa dan oleh sebab itu, maka penjajahan di atas dunia harus dihapuskan, karena tidak sesuai dengan perikeadilan dan perikeadilan. **(Paragraf 1)**

Dan perjuangan pergerakan kemerdekaan Indonesia telah sampailah kepada saat yang berbahagia dengan selamat sentosa mengantarkan rakyat Indonesia ke depan pintu gerbang kemerdekaan Negara Indonesia, yang merdeka, bersatu, berdaulat, adil dan makmur. **(Paragraf 2)**

Atas berkat rahmat Allah Yang Maha Kuasa dan dengan didorongkan oleh keinginan luhur, supaya berkehidupan kebangsaan yang bebas, maka rakyat Indonesia menyatakan dengan ini kemerdekaannya. **(Paragraf 3)**

Kemudian daripada itu untuk membentuk suatu Pemerintah Negara Indonesia yang melindungi segenap bangsa Indonesia dan seluruh tumpah darah Indonesia dan untuk memajukan kesejahteraan umum, mencerdaskan kehidupan bangsa, dan ikut melaksanakan ketertiban dunia yang berdasarkan kemerdekaan, perdamaian abadi dan keadilan sosial, maka disusunlah Kemerdekaan Kebangsaan Indonesia itu dalam suatu Undang-Undang Dasar Negara Indonesia, yang terbentuk dalam suatu susunan Negara Republik Indonesia yang berkedaulatan rakyat dengan berdasarkan kepada Ketuhanan Yang Maha Esa, Kemanusiaan Yang Adil dan Beradab, Persatuan Indonesia, dan Kerakyatan yang dipimpin oleh hikmat kebijaksanaan dalam Permusyawaratan/Perwakilan, serta dengan mewujudkan keadilan social bagi seluruh rakyat Indonesia. **(Paragraf 4)**

Tujuan Nasional
Bangsa
Indonesia