
























MATEMÁTICA – 5° AÑO







- Observá y analizá el grafico de la izquierda, y después arrastra cada uno de los seis dibujos con el número que corresponde:







	1
	10
	100
	1,000
	10,000
	100,000
	1,000,000












30 102

1 000 111

2 210 110

1 100 400

1 101 030

122 001