



# Práctica Calificada N°1

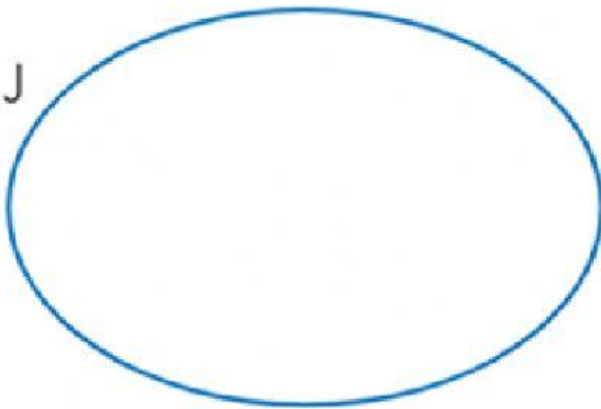
Hijo(a) del Rey: \_\_\_\_\_

1. Identifica los elementos, según el criterio de clasificación.



$J = \{ \text{Frutas} \}$

$K = \{ \text{Proteínas} \}$

J



K



2. Nombra los elementos de los siguientes conjuntos.

$A = \{ \text{números naturales impares menores que 11} \}$

$A = \{ \text{_____} \}$

$P = \{\text{números naturales entre 57 y 61}\}$

$P = \{ \underline{\hspace{10cm}} \}$

$R = \{\text{vocales de la palabra } \textit{verdad}\}$

$R = \{ \underline{\hspace{10cm}} \}$

3. Observa y escribe el criterio de clasificación de cada conjunto.

$B = \{\text{falda, blusa, medias, pantalón}\}$

$B = \{ \underline{\hspace{10cm}} \}$

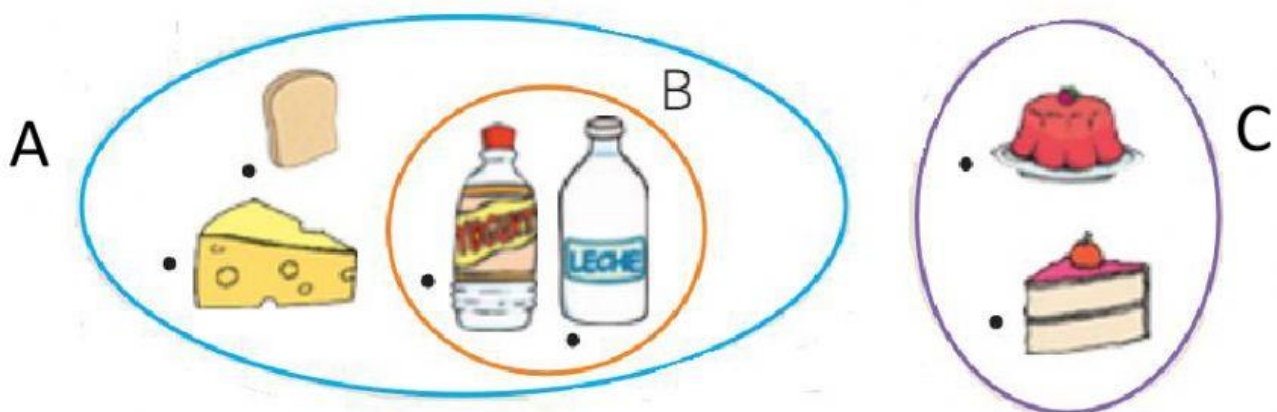
$C = \{\text{lunes, martes, miércoles, jueves, viernes, sábado, domingo}\}$

$C = \{ \underline{\hspace{10cm}} \}$

$D = \{\text{licuadora, microondas, refrigeradora}\}$

$D = \{ \underline{\hspace{10cm}} \}$

4. Observa los diagramas y arrastra el símbolo según corresponda.





A

€



A

€



C

€



A

€



B

€



C

€