


ESCOLA ZILNETE PEREIRA GUIMARÃES

1 – LIGUE OS VERSOS AOS DESENHOS CORRESPONDENTES.

ÁGUA FRESQUINHA
DO RIO, DO MAR.



ÁGUA FRESQUINHA
DO BANHO DE CHUVA.



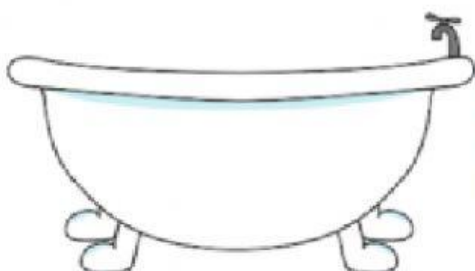
ÁGUA QUE É BASE
EM MEU CORPO ESTÁ.



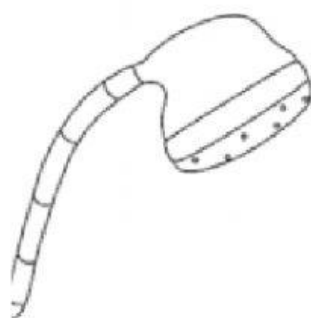
NO PLANETA AZUL
FAZ A VIDA BROTA!






2 – ESCREVA OS NOMES DOS DESENHOS ONDE A ÁGUA POR SER UTILIZADA POR NÓS.



A dashed rectangular box for writing the name of the drawing (bath).



3 – OBSERVE A QUANTIDADE DE ÁGUA QUE CADA TORNEIRA DESPERDIÇOU E RESPONDA.



A) QUAL TORNEIRA DISPERDIÇOU MENOS ÁGUA? _____

B) QUANTAS GOTAS DISPERDIÇOU A TORNEIRA 3? _____

C) FAÇA A SOMA DE QUANTAS GOTAS FORAM DISPERDIÇADAS PELAS TORNEIRAS 2 E 3 JUNTAS?

D) QUANTAS GOTAS A TORNEIRA 1 DISPERDIÇOU A MAIS QUE A TORNEIRA 2?

E) QUANTAS GOTAS DISPERDIÇARAM AS TRÊS TORNEIRAS JUNTAS?
