

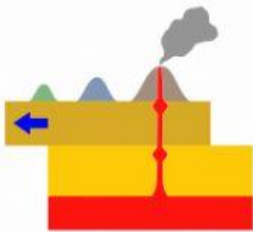
1. Associa la figura alla parola giusta:



HOT SPOT



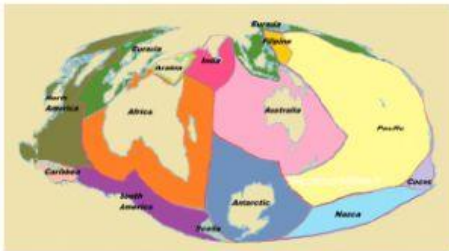
STRATOVULCANO



MAGMA



VULCANO A SCUDO



CRATERE



PLACCHE TERRESTRI

**2. Riempi gli spazi con le parole giuste:**

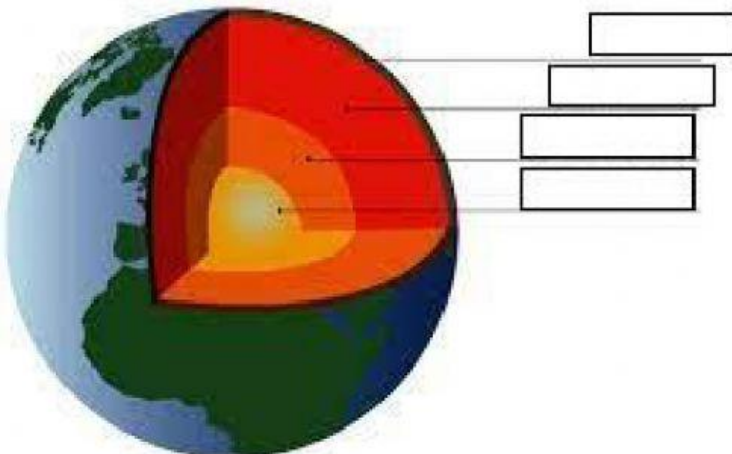
La crosta terrestre è lo strato più \_\_\_\_\_ e \_\_\_\_\_ del nostro pianeta. E' divisa in \_\_\_\_\_ parti che si chiamano \_\_\_\_\_ e \_\_\_\_\_. Il mantello si divide in mantello \_\_\_\_\_ e mantello \_\_\_\_\_. Il nucleo si divide in due parti: il nucleo \_\_\_\_\_ e il nucleo \_\_\_\_\_. Il nucleo è fatto in maggioranza da \_\_\_\_\_. Il nucleo interno è \_\_\_\_\_.

**3. Clicca su VERO o FALSO**

**V F**

La Terra è perfettamente tonda		
La crosta continentale è quella con le terre emerse (fuori dall'acqua)		
Nell'astenosfera ci sono i movimenti convettivi che fanno muovere le placche		
Il nucleo interno è liquido		
Nel nucleo interno la temperatura è tra i 5000°C e i 6000°C		
Il magma è roccia fusa senza gas		
La lava è roccia fusa senza gas		
Il camino è il canale dove il magma sale in superficie		
Le eruzioni esplosive sono quelle dei vulcani a scudo		
Gli stratovulcani hanno una lava molto densa		
L'ipocentro del terremoto è il punto sotto terra dove parte la scossa		

**4. Collega la parola al riquadro giusto.**



**NUCLEO ESTERNO**

**NUCLEO INTERNO**

**CROSTA TERRESTRE**

**MANTELLO**