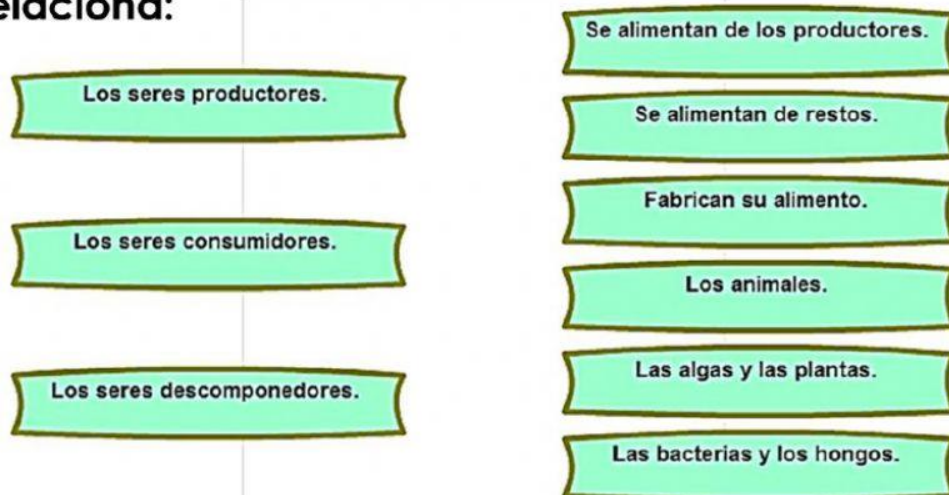
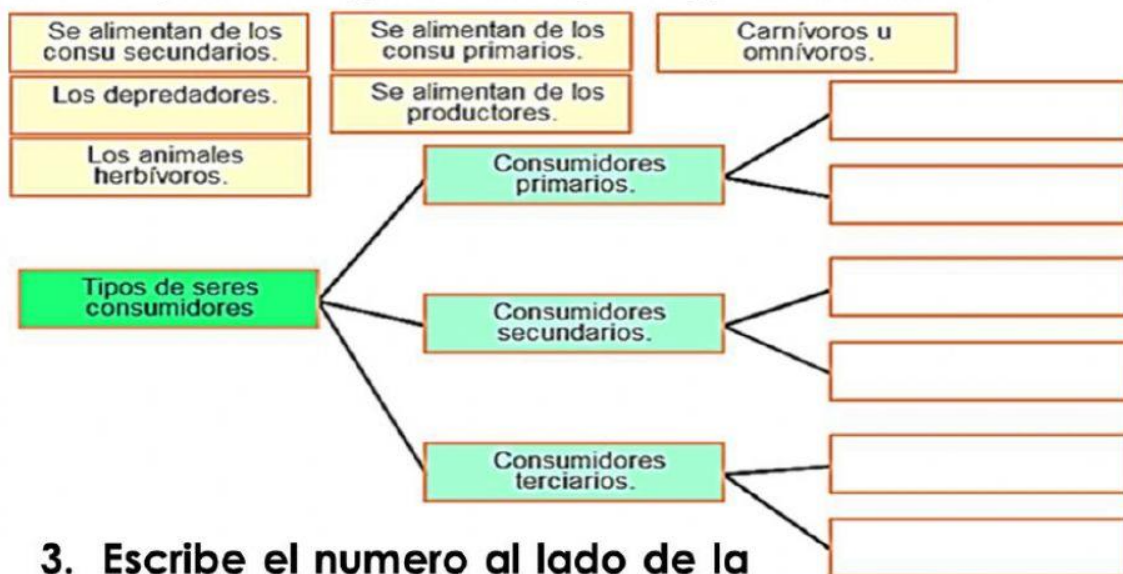


Nombre y apellido: _____

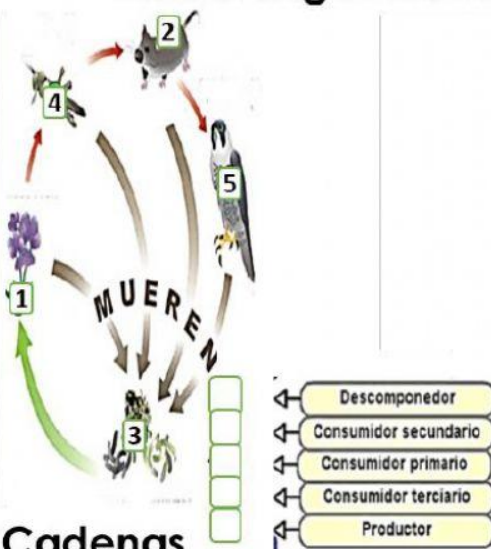
1. Relaciona:



2. Completa el siguiente mapa según las claves.



3. Escribe el numero al lado de la flecha según corresponda:



Cadenas Alimentarias

4. Completa la frase:

a) La relación entre varios seres vivos que resultan beneficiados mutuamente, se llama ...

--	--	--	--	--	--	--	--	--	--

b) La relación entre un ser vivo, el parásito, que se beneficia de otro, el hospedador, que resulta perjudicado, se llama ...

--	--	--	--	--	--	--	--	--	--

c) Unas representaciones en forma de red que combinan varias cadenas alimentarias, forma una ...

--	--	--	--	--	--	--	--	--	--