
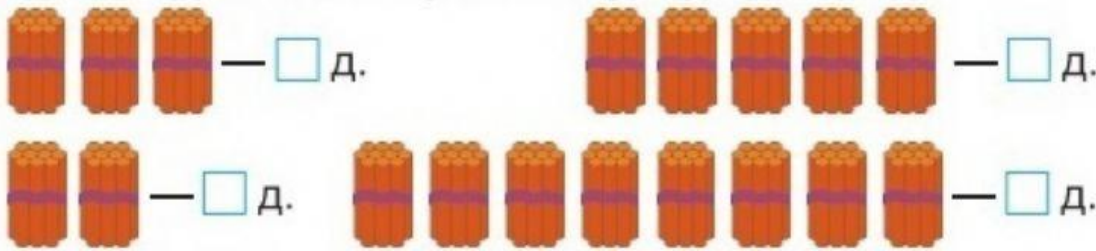


## Досліджуємо лічильну одиницю - десяток.

1. З'єднай номер частини, яка доповнить фігуру ліворуч до цілого?



2. Запиши, скільки зображено десятків.



3. Порівняй числа. 4. Знайди значення виразів.

2 д.  7 д.

6 д.  3 д.

5 д.  5 д.

4 д. + 5 д. =  д.

10 д. - 2 д. =  д.

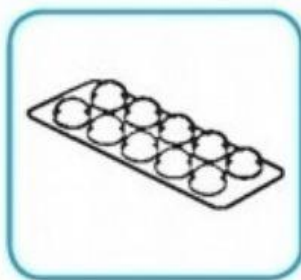
1 д. + 7 д. =  д.

9 д. - 3 д. =  д.


2 д. + 5 д. =  д.

6 д. - 5 д. =  д.

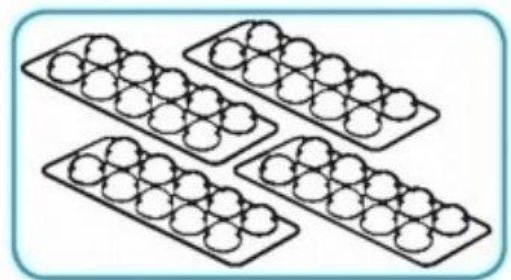
5. Полічи вітамінки десятками. Скільки десятків на кожному малюнку?



д.



д.



д.