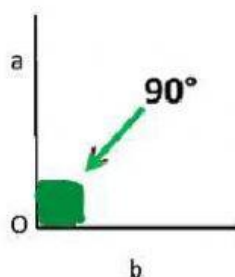
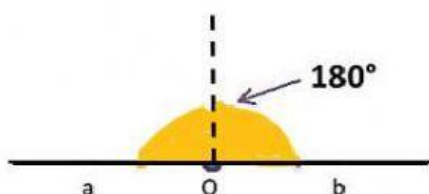


GLI ANGOLI


- Trascina il nome sotto la figura corretta



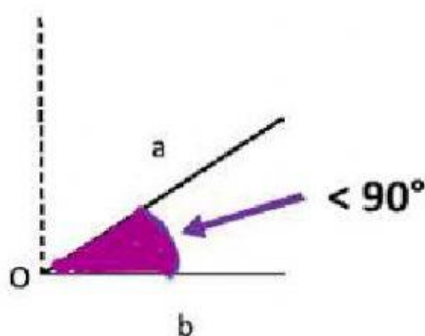
ANGOLO GIRO



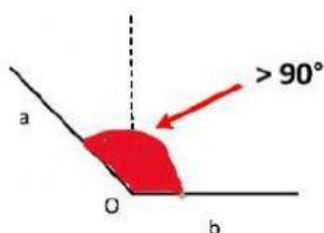
ANGOLO ACUTO



ANGOLO OTTUSO



ANGOLO PIATTO



ANGOLO RETTO

- Leggi o ascolta il nome dell'angolo ed indica quale delle tre misure è corretta?

ANGOLO GIRO

90°

60°

360°

ANGOLO ACUTO

< 180°

< 90°

> 90°

ANGOLO PIATTO

180°

60°

360°

ANGOLO RETTO

< 90°

> 90°

90°

ANGOLO OTTUSO

< 180

< 90

> 90°

- Ascolta la definizione e scrivi il nome delle parti dell'angolo

