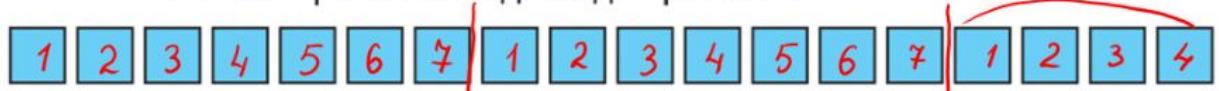


123.


Виконай ділення з остачею практично (за малюнками), запиши та прочитай відповідні рівності.



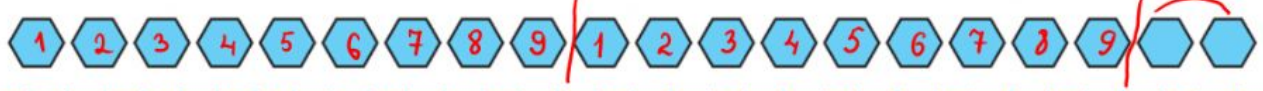
18 : 7



19 : 8



24 : 5



20 : 9