
















ACTIVIDAD 2

1. Relaciona cada multiplicación con la representación correcta

$\bullet 2 \times 5$	
$\bullet 3 \times 4$	\longrightarrow 
$\bullet 4 \times 6$	
$\bullet 4 \times 2$	
$\bullet 5 \times 1$	
$\bullet 3 \times 3$	
$\bullet 1 \times 6$	
$\bullet 6 \times 2$	
$\bullet 2 \times 4$	

2. Camila, en una hoja cuadrículada represento con recuadros algunas tablas de multiplica, Resuelve cada multiplicación.

 $\square \times \square = \square$	 $\square \times \square = \square$	 $\square \times \square = \square$
 $\square \times \square = \square$	 $\square \times \square = \square$	 $\square \times \square = \square$

3. Escribe la multiplicación correspondiente

