

ชื่อ - นามสกุล..... เลขที่ .....



โรงเรียนวัดเขาสะพายรัง

ข้อสอบปลายปี รหัสวิชา ว16101 วิชาวิทยาการคำนวณ

กลุ่มสาระวิทยาศาสตร์และเทคโนโลยี

ชั้นประถมศึกษาปีที่ 6 เวลา 60 นาที



คำชี้แจง ให้นักเรียนตอบคำถามต่อไปนี้ให้ถูกต้อง

1. วิเคราะห์ข้อมูลจากภาพแล้วหาราคาของอุปกรณ์ โดยเติมคำตอบลงในช่องสี่เหลี่ยม

อุปกรณ์เหล่านี้มีราคาเท่าไร

= 450

= 500

= 650

อุปกรณ์เหล่านี้มีราคาเท่าไร

\_\_\_\_\_

2. จากภาพ หากต้องการแก้ไขคำสั่งให้แมววาดรูปห้าเหลี่ยมจะต้องแก้คำสั่งอะไรบ้าง อย่างไร

ตอบ













.....





.....

.....













คำชี้แจง ให้นักเรียนพิจารณาภาพที่หายไปและเติมตัวอักษร A - D ลงในช่องว่างให้ถูกต้อง โดยที่แต่ละแถว ทั้งแนวตั้ง และแนวนอนจะมีรูปภาพไม่ซ้ำกัน





1)

.....			.....
			
.....			
		.....	









 A	 B
 C	 D

2)

			
.....		.....	
			
.....		.....	

 A	 B
 C	 D

ให้นักเรียนนำคำตอบไปเติมลงในช่องว่าง

ทิศทาง	จุดเชื่อมต่อ			
การรับข้อมูล	การนำเข้าข้อมูล	.....	.....	.....
เริ่มต้น/สิ้นสุด	แสดงผลทางหน้าจอ			
การตัดสินใจ	การประมวลผล	.....	.....	.....
				
		.....	.....	