











# FIGURAS PLANAS Y PERÍMETROS

1. Escribe el nombre de las siguientes figuras planas según el número de lados.





2. Calcula el perímetro de las siguientes figuras. Tienes que hacerlo como en el ejemplo.



 <p>Lado = 5 cm</p>  <p>Todos los lados son iguales</p>	$P = 5\text{ cm} + 5\text{ cm} + 5\text{ cm} + 5\text{ cm} + 5\text{ cm} + 5\text{ cm} + 5\text{ cm} = 35\text{ cm}$
---	--

	$P =$
---	-------

	$P =$
---	-------