

# EXAMEN TEÓRICO ILLUSTRATOR Ai

**Nombre:**

**Grado:**

**Grupo:**

1. Relaciona cada termino de diseño con la imagen que le representa. Arrastra los textos a los rectangulos según corresponda.

Simetría Radial

Punto Focal

Textura

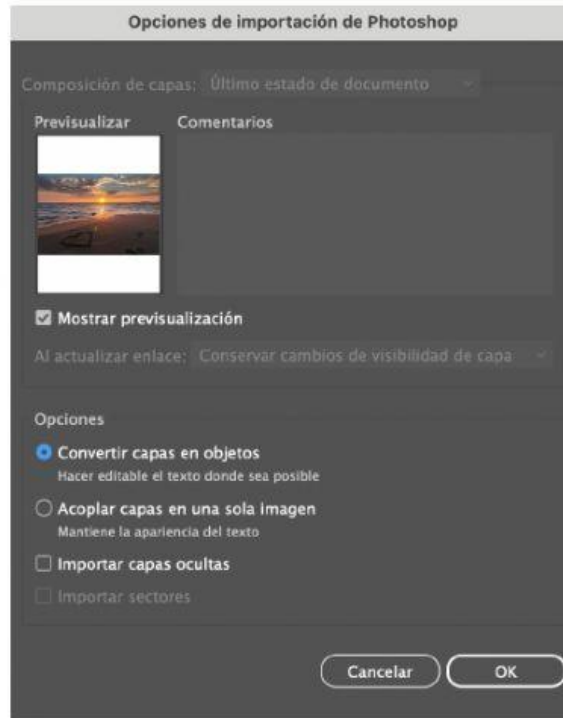





2. Un cliente necesita un anuncio para un nuevo restaurante de lujo. ¿Cuál de las siguientes imágenes se relaciona mejor con la demografía de su público?



3. Estas importando un documento de Photoshop a Illustrator. Se quiere permitir las revisiones e incluir las capas invisibles. Selecciona las opciones correctas para ajustar estos requisitos en el cuadro de dialogo siguiente.



4. Relacione cada característica de texto con su descripción. Une con una línea la respuesta correcta.

Ajusta la referencia del texto a lo largo de una forma gráfica.

Ceñir Texto

Es útil cuando un objeto o un grafica se coloca al frente de un cuerpo de texto.

Texto de Punto

Un texto que fluye automáticamente al ajustarse el marco de texto.

Texto de Área

Un texto que se distorsiona automáticamente al ajustarse el marco de texto.

Texto en trazado

5. Relaciona cada herramienta con su función en un proyecto de Illustrator. Une con una línea las respuestas correctas.

Se usa para dibujar trazados derechos o curvas.

Se usa para modificar el tipo de ancla de un trazado.

Se usa para reducir el número de anclas de un trazado.

Se usa para aumentar el número de anclas de un trazado.



6. Tú tomaste esta foto. ¿Qué documento necesitas para poder usar esta imagen legalmente en un trabajo publicado?. Marca la respuesta correcta dando clic en la casilla indicada.



A) Recibo de pago por el uso de la imagen.

B) Licencia de fotógrafo.

C) Cesión de derechos de imagen.

D) Copia de identificación de la modelo.

E) Licencia de uso de la imagen.

7. Esta maqueta es de un sitio web para personas mayores que necesitan recibir asistencia. ¿Qué puedes hacer para que este sitio resulte más fácil de usar para este tipo de público?. Marca la respuesta correcta dando clic en la casilla indicada.



### EL PLAN DEL GOBIERNO:

#### REDUCCIÓN DE LAS PENSIONES PÚBLICAS PARA DEJAR ESPACIO A LOS PLANES DE PENSIONES DE EMPRESA

**L**a ley que incentiva los planes privados de empleo aprobada el 9 de junio en el Congreso de los Diputados constituye el golpe más duro dado al régimen de reparto en que se basa nuestra Seguridad Social desde su creación en los años sesenta del siglo pasado. La Seguridad Social y el régimen de reparto en que se asienta es una gran conquista de la lucha clasista de la clase obrera organizada a la burguesía en plena transición. Y a pesar de todos los cambios parlamentarios de cambiar el régimen de reparto en que se fundamenta, aún mantiene una tasa de reposición de la pensión inicial respecto al último salario superior al 75%.

##### PLANES DE PENSIONES DE EMPLEO Y PREVISIÓN SOCIAL EMPRESARIAL

Los planes de pensiones de empleo son la póliza angular de la previsión social complementaria de carácter empresarial, que incentiva el ahorro de los trabajadores aumentando las aportaciones de los trabajadores con aportaciones empresariales, vinculando así a los trabajadores con los compromisos asumidos por los empresarios en el marco de las relaciones laborales y los servicios colectivos.

La introducción supone un cambio de modelo del sistema de Seguridad Social pública conocido y requiere, para su implantación, una amplia gama de actuaciones

Fernández. Manual de protección social contemporánea. Buenos Aires, 2017.

El problema de su integración, como resultado de Teyss, en el sistema, consiste en movilizar el ahorro de los trabajadores y empresarios, reduciendo, por lo tanto, de esta depende en buena medida del conocimiento que surge del régimen de reparto y de la tasa de reposición del sistema público. Asimismo, de reemplazar parte de la del sistema público con un subsidio a la implantación de planes de pensiones empresariales.

La cuestión gubernamental sufre en muchos casos pensiones contributivas de nueva y en la generalidad de los casos son el reflejo de las modificaciones del sistema

- A). Aumentar el tamaño del texto de las columnas de información.
- B). Cambiar los colores para aumentar el contraste.
- C). Reducir el interlineado en las columnas de información.
- D). Cambiar la fuente para que llame más la atención.

8. Relaciona cada herramienta con su función en un proyecto de Illustrator. Une con una línea las respuestas correctas.

Utiliza esta herramienta para seleccionar un objeto completo con un clic.



Utilice esta herramienta para seleccionar con un solo clic objetos con propiedades o atributos similares.



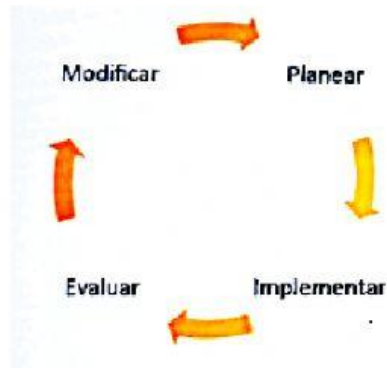
Utilice esta herramienta para seleccionar la matriz De un objeto seleccionado.



Utilice esta herramienta para seleccionar el punto de ancla o el segmento de un trazado.

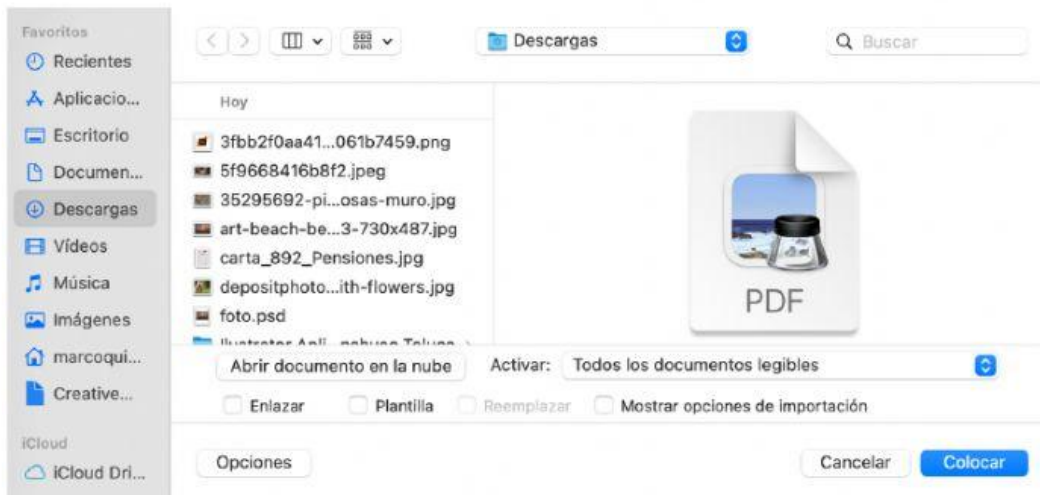


9. ¿Qué aspecto del proceso de diseño demuestra la siguiente imagen?



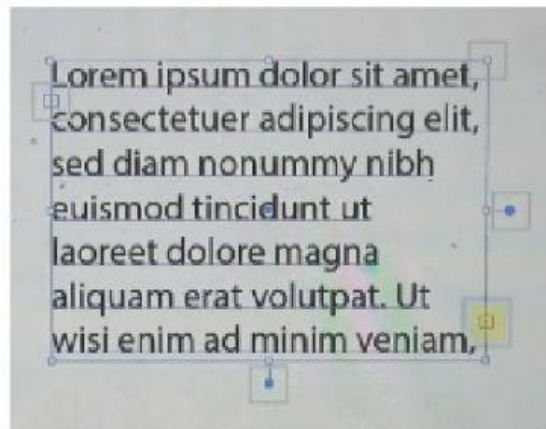
- A) Creación del diagrama funcional de página.
- B) Diseño iterativo.
- C) Alcance del proyecto.
- D) Órdenes de cambio.

10. Tienes que insertar únicamente la página 3 del documento pdf como un objeto vinculado. Selecciona las opciones correctas para conseguirlo. Da clic en las opciones correctas sobre la imagen siguiente.





11. Estas imprimiendo un documento con varias mesas de trabajo. ¿Qué opción en la ventana de dialogo impresión se debe usar siempre para imprimir todas las mesas de trabajo en una sola página?. Marca la casilla correcta.
- A) Habilitar ignorar mesas de trabajo.
  - B) Habilitar imprimir como mapa de bits.
  - C) Seleccionar todas las mesas de trabajo.
  - D) Establecer la opción de Escala Encajar en Página.
12. La imprenta que se usa para imprimir trabajos de alta calidad para enmarcar le pide que exporte sus imágenes a 300 ppp. Usted quiere que sus imágenes midan 8 in. X 10 in. ¿Cuál es el tamaño mínimo requerido para cumplir con las especificaciones del trabajo?. Marca la casilla correcta.
- A) 1800 x 2400 pixeles
  - B) 2400 x 3000 pixeles
  - C) 3600 x 4800 pixeles
  - D) 4800 x 6000 pixeles
13. Identifica la parte del texto seleccionado que sea el icono de desbordado de puerto de salida que se pueda usar para enlazar el texto desbordado desde un área a otra área de texto. Da clic en la opción correcta encima de la imagen siguiente.



14. Cuando se usa la función Exportar como... con un archivo .ai, ¿Cuáles son los tres formatos de archivo disponibles?  
Marca las 3 casillas correctas.

- A) SVG
- B) PNG
- C) PDF
- D) Illustrator 8
- E) PSD
- F) EPS

15. Tienes un documento con una fuente personalizada. ¿Qué comando debería de usar para no tener que proporcionarle a la impresora la fuente del archivo?

- A) Formato del sistema
- B) Agregar Adobe Fonts
- C) Crear contornos
- D) Habilitar protección de pictogramas que faltan