



**PEMERINTAH KABUPATEN GROBOGAN**  
**DINAS PENDIDIKAN**  
**SMP NEGERI 1 TEGOWANU**



**SEKOLAH STANDAR NASIONAL (SSN)**

Terakreditasi A berdasarkan SK Penetapan Hasil Akreditasi BAP-S/M Nomor : 1334/BAN-SM/SK/2020

Jalan Jend.Sudirman No.4 Tegowanu Wetan, Kec.Tegowanu, Kab.Grobogan Telp.(0292) 5135061




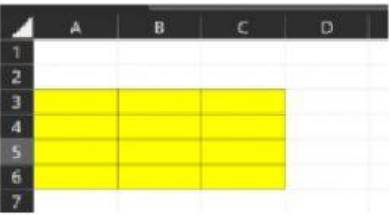




Website : [www.smpn1-tegowanu.com](http://www.smpn1-tegowanu.com) E-mail : [puskom@smpn1-tegowanu.com](mailto:puskom@smpn1-tegowanu.com)

**SUMATIF TENGAH SEMESTER GENAP**  
**TAHUN PELAJARAN 2022 / 2023**

<b>MATA PELAJARAN</b>	<b>: INFORMATIKA</b>
<b>KELAS / SEMESTER</b>	<b>: VII / 2</b>
<b>HARI, TANGGAL</b>	<b>:</b>

<b>NAMA</b>	<b>:</b>
<b>KELAS</b>	<b>:</b>
<b>NO.PRESENSI</b>	<b>:</b>

**A. Jawablah pertanyaan berikut ini dengan tepat !**

- 1) Pertemuan antara baris dan kolom disebut .....
- 2)  Gambar disamping berfungsi untuk ..... data / dokumen.
- 3) Alamat **E25** mempunyai arti " Pertemuan antara ..... dengan .....
- 4) Untuk menjumlahkan data menggunakan fungsi .....
- 5)  Gambar disamping berfungsi untuk ..... data / dokumen.
- 6)  Gambar disamping merupakan sel .....
- 7)  Gambar disamping merupakan range .....
- 8) Cara untuk menampilkan nama - nama dokumen dan lokasi dokumen yang telah dikerjakan yaitu Klik Tab File >>> .....
- 9)  Gambar balok disamping digunakan untuk ..... sprite.
- 10)  Gambar balok disamping digunakan untuk mengatur volume ..... sprite.
- 11) Tempat membuat script atau baris kode terhadap sprite yang akan ditampilkan dalam Scratch disebut .....
- 12) Gambar atau objek yang akan diprogram dalam Scratch disebut .....
- 13) Dalam Scratch, baris kode yang sudah dirancang akan berjalan atau tampil pada .....
- 14)  Gambar balok disamping berfungsi untuk memulai memainkan .....
- 15)  Gambar balok disamping berfungsi untuk mengatur variabel ..... yang ditentukan.

***B. Jawablah pertanyaan berikut ini dengan benar !***

1. Sebutkan satuan kapasitas data dari yang terkecil hingga yang terbesar ( minimal 4 ) !
  
  
  
  
  
  
  
  
  
  
2. Sebutkan bagian – bagian dari halaman Worksheet !
  
  
  
  
  
  
  
  
  
  
3. Di dalam Format Cells terdapat icon – icon apa saja !
  
  
  
  
  
  
  
  
  
  
4. Sebutkan perintah – perintah yang ada pada Scripts / Deskripsi Blok !
  
  
  
  
  
  
  
  
  
  
5. Sebutkan perintah untuk memberikan Sprite Burung bisa bergerak dan mengepakkan sayapnya !