

L' OPERAZIONE GIUSTA

Leggi, osserva il disegno e indica con una **X** l'operazione esatta.
Poi calcola e rispondi.

1


Stamattina nella pasticceria di Mara
c'erano 9 torte al cioccolato.

Ora ce ne sono soltanto 5.

Quante torte sono state vendute?

☐ $9 + 5 = \dots\dots\dots$

☐ $9 - 5 = \dots\dots\dots$



Risposta → Sono state vendute **torte** .

2


Nel parcheggio davanti alla scuola ci sono 8 auto.

Dopo poco ne arrivano altre 3.

Quante sono ora le auto?

☐ $8 + 3 = \dots\dots\dots$

☐ $8 - 3 = \dots\dots\dots$



Risposta → Ora le auto **in totale sono** .

3

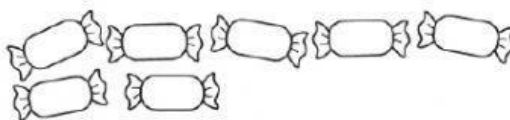
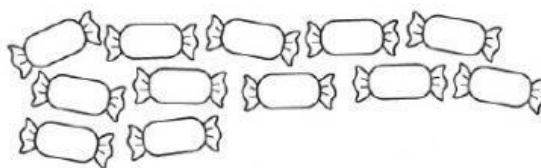
Lisa ha mangiato 7 caramelle.

Irene ne ha mangiate 12.

Quante caramelle in più
ha mangiato Irene?

☐ $12 + 7 = \dots\dots\dots$

☐ $12 - 7 = \dots\dots\dots$



Risposta → Irene ha mangiato **caramelle** in più.