



PEMERINTAH KABUPATEN SINJAI

DINAS PENDIDIKAN

SD NEGERI 68 MANIPI KEC. SINJAI BARAT

Jl. Lembah Harapan Manipi Ke. Tassililu, Kec. Sinjai Barat ☒ 92653 Manipi

SOAL PENILAIAN TENGAH SEMESTER (PTS)

Tema : 7. Peristiwa dalam Kehidupan
 Kelas/ Smt : V (Lima)/ Genap
 Tahun Pelajaran : 2022/2023
 Nama Siswa :

Mapel dan KD	No. Soal	Nilai	Ketuntasan	TTD Guru	TTD Orang Tua
PPKn	1,6,11,16				
Indonesia	2,7,12,17				
IPA	3,8,13,18				
IPS	4,9,14,19				
SBdP	5,10,15,20				

A. PILIHAN GANDA

Jawablah pertanyaan di bawah ini dengan memberi tanda silang (×) pada pilihan jawaban yang paling benar!

1. Perhatikan teks berikut!

Unsur- unsur kebudayaan suku bangsa di Indonesia diantaranya: kepercayaan, mata pencaharian, teknologi dan peralatan, kesenian, pengetahuan serta bahasa daerah. Berdasarkan teks tersebut, yang *bukan* merupakan hal tersebut adalah ...

- A. Bahasa
- B. Kesenian
- C. Mata pencaharian
- D. Pengalaman hidup

2. Perhatikan informasi berikut!

Pada tanggal 20 Mei 1908, didirikanlah sebuah organisasi pemuda bernama Budi Utomo di Jakarta.

Kata tanya yang tepat untuk informasi tersebut adalah ...

- A. Siapa
- B. Kapan
- C. Mengapa
- D. Bagaimana

3. Perhatikan ilustrasi berikut!

Bensin yang dibiarkan dalam wadah terbuka lama kelamaan akan habis.

Peristiwa tersebut menunjukkan proses ...

- A. Mencair
 - B. Menyublim
 - C. Menguap
 - D. Mengkristal
4. Perhatikan gambar berikut!




Potensi Indonesia yang menarik bangsa asing untuk singgah kemudian menjajah berdasarkan gambar tersebut adalah ...

- A. Sumber daya manusia
- B. Rempah-rempah
- C. Batu bara
- D. Minyak bumi

B. PILIHAN GANDA KOMPLEKS

Berilah tanda centang (✓) pada jawaban yang benar! Jawaban dapat lebih dari satu.

5. Perhatikan tangga nada berikut!



berdasarkan gambar tersebut, berilah tanda centang (✓) manakah pernyataan berikut yang benar atau salah !

Pernyataan	Benar	Salah
Interval nadanya 1-1/2-1-1-1/2-1-1		
Nada dasar Do= C		
Sedih dan kurang bersemangat		
Merupakan tangga nada diatonis mayor		

6. Perhatikan pernyataan-pernyataan berikut!

1. Faktor letak geografis
2. Faktor pengalaman hidup
3. Faktor sejarah Indonesia
4. Faktor kesejahteraan masyarakat

Berdasarkan pernyataan tersebut, berilah tanda centang (✓) pada pernyataan benar atau salah. Faktor-faktor penyebab keberagaman bangsa Indonesia!

Pernyataan	Benar	Salah
1		
2		
3		
4		

7. Perhatikan pernyataan-pernyataan berikut!

1. Bangsa Inggris menjajah Indonesia mulai tahun 1811 hingga 1816.
2. Mereka pun berhasil menguasai pulau Jawa dari Belanda melalui perjanjian Tuntang.
3. bangsa Inggris datang dan menyerang Pulau Jawa untuk menguasai Indonesia.
4. Pemerintahan Inggris dipimpin oleh Thomas Stanford Raffles.

Berilah tanda centang (✓) pada pernyataan benar atau salah kata tanya yang tepat untuk pernyataan tersebut!

Pernyataan	Benar	Salah
1. Siapa		
2. Bagaimana		
3. Kapan		
4. Apa		

8. Perhatikan gambar berikut!



Gambar A

Berdasarkan gambar tersebut, beri tanda centang (✓) pernyataan yang benar atau salah benda manakah yang dapat mengalami perubahan kembali menjadi wujud semula!

Pernyataan	Benar	Salah
Gambar 1		
Gambar 2		
Gambar 3		
Gambar 4		

C. MENJODOHKAN

9. Perhatikan tahun berikut!

1511

Gambar 1

1575

Gambar 2

1799

Gambar 3


1602

Gambar 4


Berdasarkan gambar tersebut, beri garis penghubung antara gambar tahun dengan kronologis penjajahan bangsa asing!

Gambar		Kronologis penjajahan bangsa asing
1	•	• Belanda membentuk VOC
2	•	• Portugis datang di Malaka
3	•	• Portugis berhasil diusir oleh rakyat Maluku
4	•	• VOC mengalami kebangkrutan dan resmi dibubarkan


10. Perhatikan gambar berikut!




Gambar A



Gambar B



Gambar C



Gambar D

Berdasarkan gambar tersebut, beri garis penghubung antara gambar dengan contoh tarian daerah yang menggunakan pola lantai sesuai gambar!

Gambar		Pola lantai
A	•	Horizontal
B	•	Vertikal
C	•	Diagonal
D	•	Melengkung

11. Perhatikan gambar berikut!



Gambar 1



Gambar 2



Gambar 3




Gambar 4

Berdasarkan gambar tersebut, beri garis penghubung meneladani berbagai sifat kepahlawanan dalam kehidupan sehari-hari!

Gambar		Sifat kepahlawanan
1	•	Berjiwa besar
2	•	Berani
3	•	Gigih
4	•	Rela berkorban

12. Perhatikan gambar berikut!



Berdasarkan gambar tersebut, beri garis penghubung unsur- unsur penyusun surat sesuai gambar yang ditunjuk!

Gambar		Unsur-unsur penyusunan surat
1	•	• Salam pembuka
2	•	• Kop surat
3	•	• Alamat tujuan
4	•	• Isi surat

D. ISIAN SINGKAT

Isilah titik-titik berikut ini dengan jawaban yang tepat !

13. Perhatikan gambar berikut!



Perubahan wujud benda yang terjadi sesuai gambar adalah ...

14. Perhatikan gambar berikut!



Siapa nama tokoh yang gugur sesuai pada gambar tersebut adalah ...

15. Perhatikan gambar berikut!



Jenis karya seni rupa yang terdapat pada gambar adalah ...

16. Perhatikan teks berikut!

Pancasila sebagai dasar negara

Arti dari kalimat tersebut adalah ...

E. URAIAN

Jawablah pertanyaan berikut dengan tepat!

17. Perhatikan gambar berikut!



Tuliskan perbedaan dari kedua gambar tersebut!

Jawaban :

.....

.....

.....

.....

.....

.....

18. Perhatikan gambar berikut!



Tuliskan perubahan wujud benda yang terjadi dalam peristiwa pada gambar dan tuliskan dua contoh peristiwa lain seperti perubahan wujud dalam gambar!

Jawaban :

.....

19. Perhatikan gambar berikut!



Tuliskan 3 suku dan asal daerahnya yang sesuai pada gambar tersebut!

Jawaban :

20. Perhatikan gambar berikut!



- Termasuk karya seni rupa apakah gambar tersebut?
- Dari daerah manakah karya seni pada gambar tersebut?

Jawaban :