



PEMERINTAH KABUPATEN SINJAI
DINAS PENDIDIKAN
SD NEGERI 175 BURUNGENG
Alamat : Jalan Poros Sinjai Malino, Kec. Sinjai Tengah Kab. Sinjai



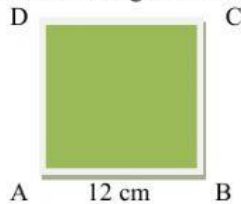
PENILAIAN TENGAH SEMESTER (PTS)
TAHUN PELAJARAN 2021/2022

Nama	:	_____	Hari, Tanggal	:	_____, _____
Kelas/Semester	:	4 / 2	Mata Pelajaran	:	Matematika

Jawablah pertanyaan di bawah ini dengan tepat!

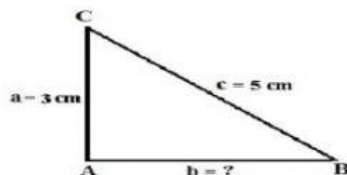
PILIHAN GANDA (PG)

1. Perhatikan gambar bangun datar berikut!



Keliling bangun datar persegi berikut adalah

- A. 48 cm
 B. 24 cm
 C. 36 cm
 D. 33 cm
2. Perhatikan gambar bangun datar berikut!



Diketahui keliling bangun segitiga di atas adalah 12 cm, tentukan panjang sisi alas bangun tersebut....cm

- A. 3
 B. 4
 C. 5
 D. 6

ISIAN

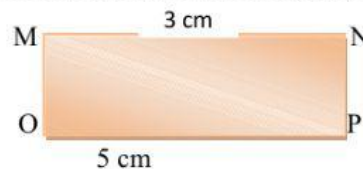
3. Perhatikan teks berikut!

Aku adalah sebuah bilangan dua angka.
 Jika aku dipangkatkan dua kemudian ditambah 100, hasilnya adalah 26^2 .

Bilangan berapakah aku....

- A. 21^2
 B. 22^2
 C. 23^2
 D. 24^2

4. Perhatikan gambar persegi panjang berikut!

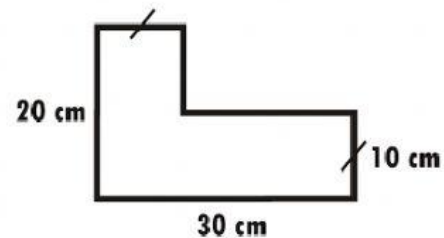


Luas bangun datar persegi panjang di atas adalah...

- A. 15 cm^2
 B. 20 cm^2
 C. 25 cm^2
 D. 30 cm^2

MENJODOHKAN

5. Perhatikan gambar berikut!



Jodohkan beberapa pernyataan berikut berdasarkan gambar di atas.

No	Pernyataan	Luas Bangun
1.	Luas bangun persegi	A. 300 cm^2
2.	Luas bangun persegi panjang	B. 100 cm^2
3.	Luas bangun gabungan	C. 400 cm^2

6. Perhatikan gambar bangun datar berikut!



Jodohkan beberapa pernyataan berikut berdasarkan gambar di atas!

NO	PERNYATAAN	Gambar
1	Bangun datar persegi panjang	a. I
2	Bangun datar segitiga	b. II
3	Bangun datar persegi	c. III

PILIHAN GANDA KOMPLEKS (PGK)

7. Perhatikan tabel tentang jenis hobi berikut!

No.	Jenis Hobi	Banyak Siswa	
		Turus	Frekuensi
1.	Membaca	III	5
2.	Menggambar	III III	9
3.	Olahraga	III III I	11
4.	Menyanyi	III III	9
5.	Menari	III I	6
	Jumlah		40

Beri tanda ceklis (v) pada kolom BENAR/SALAH sesuai pernyataan berikut berdasar kan gambar di atas.

NO	PERNYATAAN	BENAR	SALAH
1	Jumlah siswa yang hobi menyanyi 10 orang		
2	Siswa yang hobi menari dan menggambar 15 oang		
3	Siswa yang hobi olahraga 10 orang		
4	Siswa yang hobi membaca 5 orang		

8. Perhatikan tabel tentang jenis kelamin siswa SD 175 Burungeng berikut ini!

Kelas	Jenis Kelamin		Jumlah
	Laki-laki	Perempuan	
1.	19	13	32
2.	16	18	34
3.	16	15	31
4.	17	19	36
5.	15	18	33
6.	18	12	30

Pernyataan yang sesuai dengan tabel di atas adalah...

A. Siswa laki-laki kelas 1-3 berjumlah 51 orang

B. Siswa perempuan kelas tiga sebanyak 15 orang

C. Siswa perempuan kelas 1 dan 2 adalah 31 orang

D. Jumlah seluruh siswa SD 175 adalah 100 orang

URAIAN (UR)

9. Perhatikan diagram batang berikut!

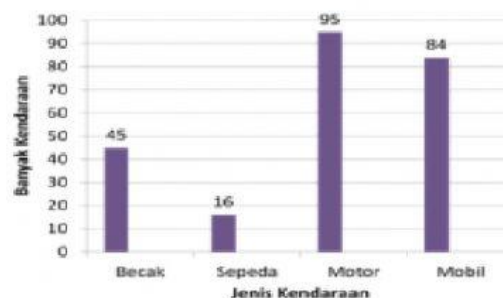


Diagram batang di atas menunjukkan jenis kendaraan yang berlalu lalang di jalan raya. Jenis kendaraan apa yang paling banyak ditemui? Berapa banyak jenis kendaraan yang ditemui?

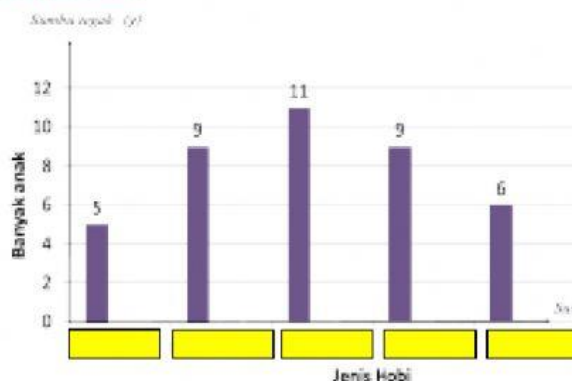
Jawab:

10. Reza mencatat jenis hobi teman-teman sekelasnya. Data tentang hobi teman-temannya ditulis dalam bentuk tabel berikut.

No.	Jenis Hobi	Banyak Siswa	
		Turus	Frekuensi
1.	Membaca	III	5
2.	Menggambar	III III	9
3.	Olahraga	III III I	11
4.	Menyanyi	III III	9
5.	Menari	III I	6
	Jumlah		40

Sajikan hobi teman Reza pada tabel di atas dalam bentuk diagram batang!

Penyelesaian



selamat bekerja