

IDENTITAS


Nama :

Kelas :

MENJODOHKAN

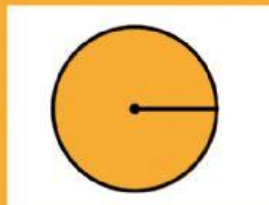
Hubungkanlah antara gambar dengan nama di samping yang sesuai!

1.



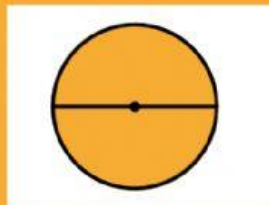
DIAMETER

2.



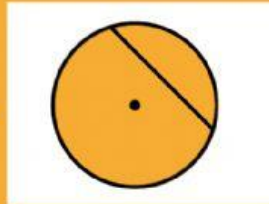
JURING

3.



TITIK PUSAT

4.



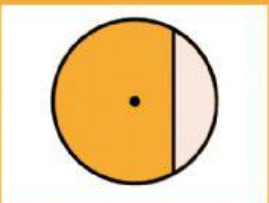
TEMBERENG

5.




TALI BUSUR

6.



JARI-JARI

PILIHAN GANDA

1. Rumus luas dan keliling lingkaran adalah ...
 - a. $L = \pi \times r$ dan $K = 2 \times \pi \times r$
 - b. $L = \pi \times r \times r$ dan $K = 2 \times \pi$
 - c. $L = \pi \times r \times r$ dan $K = 2 \times \pi \times r$
 - d. $L = \pi \times r$ dan $K = \pi \times d$
2. Suatu lingkaran memiliki diameter 21 cm. maka jari-jari lingkaran tersebut cm
 - a. 42
 - b. 21
 - c. 10,5
 - d. 10,2
3. Sebuah jam dinding berbentuk lingkaran memiliki diameter 28 cm. keliling jam dinding tersebut adalah cm
 - a. 86
 - b. 88
 - c. 90
 - d. 92
4. Sebuah taman berbentuk lingkaran memiliki jari-jari 15 cm. berapakah luas taman tersebut ?
 - a. $94,2 \text{ m}^2$
 - b. 942 m^2
 - c. $70,65 \text{ m}^2$
 - d. $706,5 \text{ m}^2$
5.  Keliling bangun disamping adalah
 - a. 190,9 cm
 - b. 109,9 cm
 - c. 54,95 cm
 - d. 59,45 cm
6. Suatu kertas berbentuk lingkaran memiliki jari-jari 21 cm. luas lingkaran tersebut adalah
 - a. 1.386 cm^2
 - b. 66 cm^2
 - c. 132 cm^2
 - d. 9.702 cm^2

- # Selamat Mengerjakan !!!