



DINAS PENDIDIKAN KABUPATEN SINJAI
SD NEGERI NO. 130 LITA - LITAE
PENILAIAN TENGAH SEMESTER (PTS)
TAHUN PELAJARAN 2022/2023



Alamat : JL. Poros Malino, Lita - Litae, Desa Saotengnga, Kec. Sinjai Tengah

Nama	: _____	Hari, Tanggal	: _____, _____
Kelas/Semester	: 6 / 2	Tema	: 6 (Menuju Masyarakat Sejahtera)

I. Jawablah pertanyaan di bawah ini dengan tepat !
(PILIGAN GANDA / PG)



1. Perhatikan gambar berikut!
 Kegiatan tersebut biasanya dilakukan saat malam hari untuk menjaga keamanan kampung ialah...
 - a. Ronda malam
 - b. Begadang
 - c. Belajar
 - d. Sahur

2. Perhatikan pernyataan-pernyataan berikut!
 1. Setiap warga Negara berhak memperoleh pendidikan dan pengajaran
 2. Setiap warga Negara memiliki kedudukan yang sama di mata hukum
 3. Setiap warga Negara yang kaya yang boleh mengemukakan pendapat
 4. Setiap warga Negara yang miskin berhak atas kehidupan yang layak

Pernyataan yang benar ditunjukkan oleh nomor

 - a. 1 dan 2
 - b. 1 dan 3
 - c. 1 dan 4
 - d. 2 dan 3

3. Berikut ini hal – hal yang dapat dilakukan untuk menyikapi masa pubertas, kecuali
 - a. Berolah raga dan istirahat yang cukup.
 - b. Menjaga kebersihan diri
 - c. Menggunakan energy dengan melakukan hal yang bermanfaat.
 - d. Memencet jerawat sembarangan.

(PILIHAN GANDA KOMPLEKS / PGK)

Perlawanan Rakyat Maluku terhadap Portugis

Bangsa Portugis pertama kali mendarat di Maluku pada tahun 1511. Kedatangan Portugis berikutnya pada tahun 1513. Akan tetapi, Ternate merasa dirugikan oleh Portugis karena keserakahannya dalam memperoleh keuntungan melalui usaha monopoli perdagangan rempah-rempah. Pada tahun 1533, Sultan Ternate menyerukan kepada seluruh rakyat Maluku untuk mengusir Portugis di Maluku. Pada tahun 1570, rakyat Ternate yang dipimpin oleh Sultan Hairun dapat kembali melakukan perlawanan terhadap bangsa Portugis, namun dapat diperdaya oleh Portugis hingga akhirnya tewas terbunuh di dalam Benteng Duurstede. Selanjutnya dipimpin oleh Sultan Baabullah pada tahun 1574. Portugis diusir yang kemudian bermukim di Pulau Timor.

Sumber: <https://www.dosenpendidikan.co.id/perlawanan-rakyat-maluku/>

4. Berilah tanda centang (✓) pada kolom BENAR/SALAH sesuai pernyataan berikut berdasarkan teks “Perlawanan Rakyat Maluku terhadap Portugis.”

NO	PERNYATAAN	BENAR	SALAH
1	Bangsa Portugis pertama kali mendarat di Maluku pada tahun 1551		
2	Portugis diusir yang kemudian bermukim di Pulau Timor		
3	Portugis datang ke dua kalinya pada tahun 1513		

Edelweis, Si Bunga Abadi

Bunga edelweiss dikenal juga dengan sebutan sebagai bunga abadi. Bunga ini hanya dapat dijumpai di daerah pegunungan, seperti gunung Gede Pangarango, Gunung Rinjani, dan Gunung Merbabu. Bunga edelweiss memiliki ciri-ciri berkelopak putih dan hanya mekar periode April sampai dengan Agustus. Bunga edelweiss ini disebut bunga abadi karena tak muda layu. Bunga ini dapat mekar hingga 10 tahun lamanya.

Sumber: <http://bobo.grid.id/Sains/Flora-dan-Fauna>.

5. Berilah tanda centang (✓) pada kolom BENAR/SALAH sesuai pernyataan berikut berdasarkan teks di atas.

NO	PERNYATAAN	BENAR	SALAH
1	Bunga edelweiss mekar hingga 10 tahun lamanya		
2	Bunga edelweiss dapat dijumpai di Gunung Rinjani		
3	Salah satu ciri bunga edelweiss yaitu mekar periode Desember		

6. Berikut ini yang merupakan hak warga negara yang tercantung dalam UUD 1945 !

PERNYATAAN	BENAR	SALAH
Memperoleh kemerdekaan dan bebas dari penjajah adalah bunyi pembukaan UUD 1945		
Mendapatkan penghidupan yang layak diatur dalam pasal 28		
Memeluk agama masing-masing dan beribadah sesuai agama dan kepercayaan yang dianutnya diatur pada pasal 29 ayat 2		
Ikut serta dalam usaha pertahanan dan keamanan negara diatur dalam pasal 31 ayat 2		

(MENJODOHKAN / MJ)

Perhatikan gambar berikut!



Kegiatan di atas merupakan beberapa contoh “Kegiatan di Sekolah” dalam upaya mempertahankan kemerdekaan.





7. Jodohkan beberapa pernyataan berikut berdasarkan gambar “Kegiatan di Sekolah”

1	Mengikuti pembelajaran di kelas dengan tertib	<input type="radio"/>	<input type="radio"/> a.	
2	Gotong royong dalam menjaga kebersihan kelas	<input type="radio"/>	<input type="radio"/> b.	
3	Disiplin dalam mengikuti upacara bendera	<input type="radio"/>	<input type="radio"/> c.	
4	Melakukan penghijauan di lingkungan sekolah	<input type="radio"/>	<input type="radio"/> d.	

Perhatikan gambar berikut!



8. Jodohkan beberapa pernyataan berikut berdasarkan gambar "Kegiatan di atas"

1	<u>Membantu ibu di dapur</u>	<input type="radio"/>	<input type="radio"/> a. Upaya mempertahankan kemerdekaan dengan rajin menyelesaikan PR
2	<u>Menjaga kebersihan lingkungan</u>	<input type="radio"/>	<input type="radio"/> b. Upaya mempertahankan kemerdekaan dengan mengikuti kegiatan positif di lingkungan masyarakat
3		<input type="radio"/>	<input type="radio"/> c. 
4		<input type="radio"/>	<input type="radio"/> d. 

9. Pasangkanlah gambar tari tunggal berikut dengan nama tariannya dengan tepat !



Tari



Tari Legong



Tari Jaipong

(ISIAN / IS)

10. Perhatikan interval nada berikut!

INTERVAL NADA	JARAK NADA	NAMA INTERVAL
c - c	0	Prime
c - d	1	Skond
c - e	2	Terts
c - f	2 ½	Kward
c - g	3 ½	Kwin
c - a	4 ½	Sekst
c - b	5 ½	Septime
c - c'	6	Oktaf

C' ke c" adalah langkah ke 8 disebut

11. Salah satu makna proklamasi kemerdekaan adalah berlakunya hukum Indonesia yang pelaksanaannya disesuaikan dengan rakyat Indonesia, makna proklamasi ini ditinjau dari aspek ...

Perhatikan gambar berikut!



12. Tarian yang ditarikan oleh dua orang penari yang umumnya putra dan putri disebut tari

(URAIAN / UR)

Perhatikan gambar berikut untuk menjawab soal nomor 9 dan 10!



13. Tuliskan 3 ciri-ciri pubertas pada laki-laki!
Jawab:

14. Apa yang dimaksud dengan pubertas? Jelaskan!
Jawab:

15. Cermati judul teks nonfiksi " **Mencegah bahaya pencemaran udara**",
Tuliskan kata kunci dan perkiraan isi dari judul tersebut:
Jawab:
Kata Kunci

Perkiraan isi teks:
