

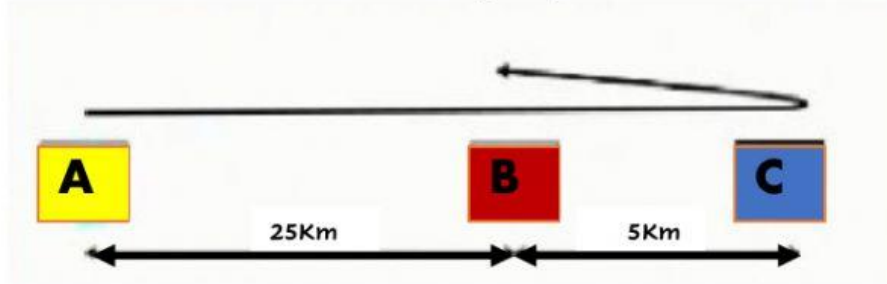


# Ciencias de la Naturaleza

## Evaluación sumativa 3er grado

Prof. Joel Andrés Hidalgo Cáceres

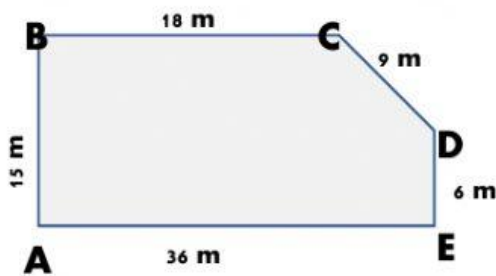
Jendry va desde el punto **A** al punto **C** y de ahí regresa al punto **B** en un período de tiempo de **5 horas** realizando un recorrido como se muestra en la siguiente figura. Determina la velocidad ( $V_m$ ) y rapidez ( $R_m$ ) media.



DATOS	
<b>d=</b>	km
<b>t=</b>	h
<b>S=</b>	km

<b><math>V_m</math>=</b>	Km/h	<b><math>R_m</math>=</b>	Km/h
--------------------------	------	--------------------------	------

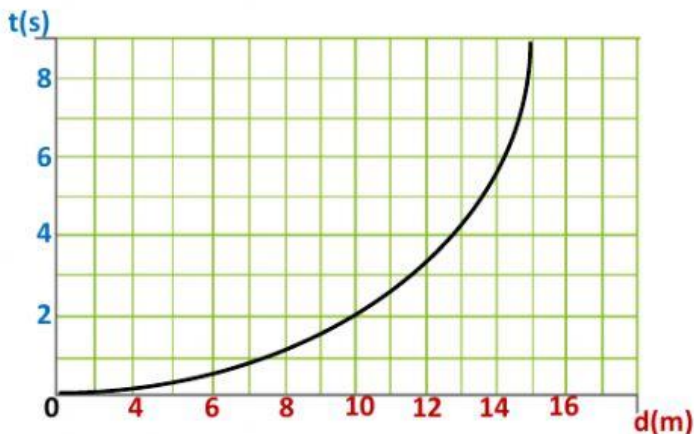
Un móvil hace un recorrido partiendo de **A** y pasa por **B**, **C**, **D** llegando a **C** en **12 seg**. Determina la velocidad ( $V_m$ ) y rapidez ( $R_m$ ) media.



DATOS	
<b>d=</b>	m
<b>t=</b>	seg
<b>S=</b>	m

<b><math>V_m</math>=</b>	m/seg	<b><math>R_m</math>=</b>	m/seg
--------------------------	-------	--------------------------	-------

Determina la rapidez media en los tiempos indicados:



Tiempos (seg.)	
<b>t(seg)</b>	<b>V(m/seg)</b>
<b>2</b>	m/seg
<b>4</b>	m/seg
<b>8</b>	m/seg