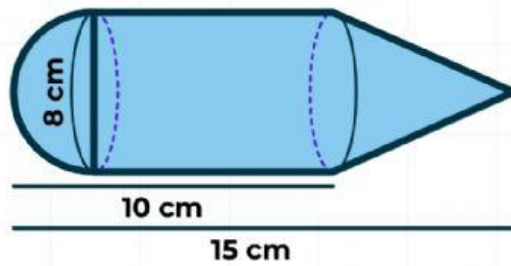


Determina el volumen del siguiente sólido.

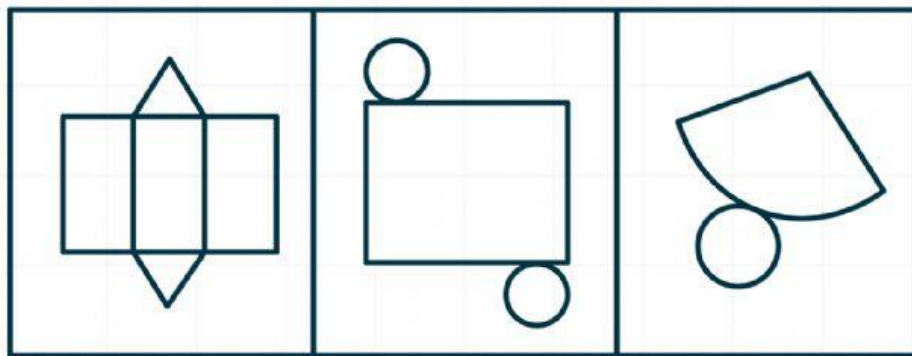


217.7

519.14

435.41

¿Cuál de los siguientes patrones corresponde al del cono?

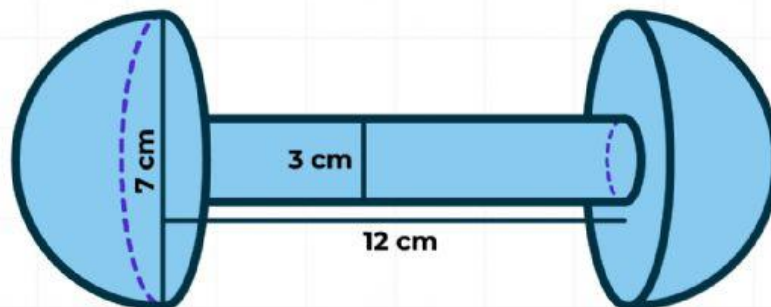


a

b

c

Escribe el volumen de cada sólido que forma el sólido compuesto y el volumen total.



Nota: Se considera que las dos semiesferas son iguales

Volumen de las semiesferas	Volumen de cilindro	Volumen total