



PH Tema 8 - Kelas 6
30 Pertanyaan

NAMA : _____
KELAS : _____
TANGGAL : _____

1. Bacalah paragraf berikut!

Sampah plastik sangat berbahaya jika dibuang sembarangan. Sampah plastik tidak bisa membusuk. Hal ini berarti sampah plastik tidak dapat didaur ulang oleh alam. Jika terbawa oleh air sungai akan mengganggu ekosistem. Banyak makhluk hidup yang mati karena menelan sampah plastik.

Pokok pikiran dari bacaan di atas adalah... .

- | | | | |
|----------------------------|--|----------------------------|---|
| <input type="checkbox"/> A | membuang sampah sembarangan | <input type="checkbox"/> B | dampak membuang sampah sembarangan |
| <input type="checkbox"/> C | dampak membuang sampah plastik sembarangan | <input type="checkbox"/> D | sampah plastik tidak dapat didaur ulang oleh alam |

2. Bacalah paragraf berikut!

Pertanian merupakan sektor utama penggerak perekonomian penduduk Laos. Daerah pertanian terdapat di sepanjang Sungai Mekong. Hasil utama pertanian Laos adalah padi dan jagung. Hasil lainnya berupa kapas, tembakau, sayuran, pisang, pepaya, dan kelapa.

Kata kunci paragraf tersebut adalah... .

(a) _____

- | | | | |
|----------------------------|-------------|----------------------------|------------|
| <input type="checkbox"/> A | pertanian | <input type="checkbox"/> B | peternakan |
| <input type="checkbox"/> C | perdagangan | <input type="checkbox"/> D | penduduk |

3. Langkah pertama yang dilakukan sebelum meringkas adalah ...

- | | | | |
|----------------------------|-------------------------|----------------------------|--------------------------|
| <input type="checkbox"/> A | membaca sungguh-sungguh | <input type="checkbox"/> B | menentukan kalimat utama |
| <input type="checkbox"/> C | menentukan judul | <input type="checkbox"/> D | mengembangkan ringkasan |

4. Media informasi dalam bentuk teks yang dipadukan dengan gambar, grafik, dan tipografi disebut... .

- | | | | |
|----------------------------|------------|----------------------------|---------|
| <input type="checkbox"/> A | infografis | <input type="checkbox"/> B | banner |
| <input type="checkbox"/> C | tabel | <input type="checkbox"/> D | spanduk |

?

5.



Infografis tersebut memiliki tema... .

(a) _____

A

lingkungan hidup

B

kesehatan

C

pendidikan

D

hukum

6. Kamu akan membuat infografis dengan tema HEMAT AIR. Manakah infografis yang sesuai dengan tema tersebut?

A



B



C



D



7. Hal berikut ini yang akan terjadi jika anggota keluarga tidak melakukan tanggung jawabnya ialah... .

A

rumah menjadi kotor dan tidak aman

B

terjadi pencemaran air, udara, dan tanah

C

masalah di antara sesama warga

D

suasana belajar menjadi tidak nyaman

8. Cermati pernyataan berikut!
 1) mengerjakan tugas dari guru
 2) memperoleh pendidikan
 3) mencari nafkah
 4) menolong orang tua di rumah
 Hak seorang siswa ditunjukkan oleh nomor... .
 (a) _____

- | | | | |
|----------------------------|---|----------------------------|---|
| <input type="checkbox"/> A | 2 | <input type="checkbox"/> B | 1 |
| <input type="checkbox"/> C | 3 | <input type="checkbox"/> D | 4 |

9. Menghargai pendapat orang lain dalam musyawarah dapat ditunjukkan dengan sikap... .

- | | | | |
|----------------------------|---------------------------------------|----------------------------|--|
| <input type="checkbox"/> A | tidak memotong pembicaraan orang lain | <input type="checkbox"/> B | pantang menyerah dalam menunjukan usul |
| <input type="checkbox"/> C | menolak hasil keputusan | <input type="checkbox"/> D | mengutamakan kepentingan pribadi |

10. Contoh bentuk tanggung jawab sebagai seorang anak di rumah yaitu... .

- | | | | |
|----------------------------|---|----------------------------|---|
| <input type="checkbox"/> A | merapikan tempat tidur setelah bangun tidur tanpa disuruh | <input type="checkbox"/> B | tidur tepat waktu jika menunjukkan pukul 23.00 WIB |
| <input type="checkbox"/> C | rajin mencuci piring jika ada orang yang melihat | <input type="checkbox"/> D | membantu orang tua karena takut tidak diberikan uang saku |

11.



Hak masyarakat yang tidak terpenuhi sesuai dengan gambar berikut yaitu... .

- | | | | |
|----------------------------|---|----------------------------|--|
| <input type="checkbox"/> A | zebra cross tidak bisa berfungsi dengan baik | <input type="checkbox"/> B | trotoar untuk pejalan kaki menjadi sempit karena digunakan untuk berjualan |
| <input type="checkbox"/> C | masyarakat menjadi susah karena tidak bisa untuk kendaraan bermotor | <input type="checkbox"/> D | pedagang mendapatkan tempat yang lebih luas untuk berjualan |

12. Akibat dari tindakan tidak melaksanakan kewajiban menjaga kebersihan dan kesehatan lingkungan adalah...

- A nyaman dan asri B banyak kuman penyakit
C nampak bersih dan indah D menimbulkan keuntungan

13.



Gambar berikut merupakan gambar skema terjadinya...

- A gerhana matahari total B gerhana matahari sebagian
C gerhana bulan total D gerhana bulan parsial/sebagian

14.

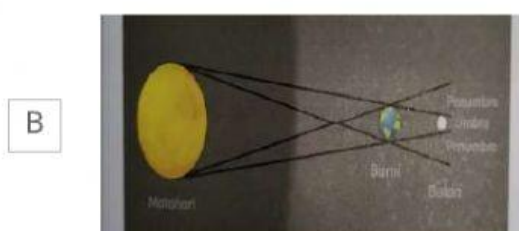
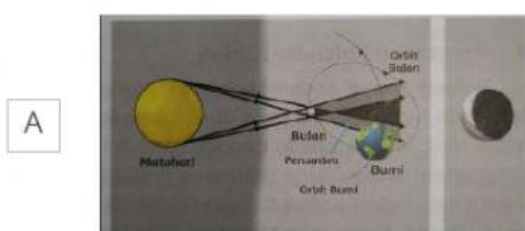


Gambar berikut adalah skema terjadinya...



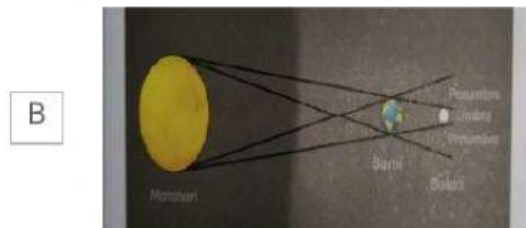
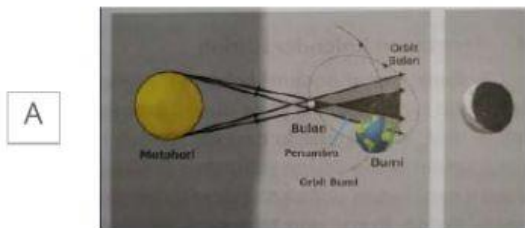
(a) _____

- A gerhana matahari total B gerhana bulan penumbra
C gerhana bulan total D gerhana bulan parsial

15. Gambar yang menunjukkan terjadinya gerhana bulan penumbra adalah...



16. Gambar yang menunjukkan terjadinya gerhana matahari total adalah... .



17. Berikut ini yang bukan merupakan akibat revolusi bumi adalah... .

A terjadinya pergantian musim

B terjadinya gerak semu tahunan matahari

C terjadinya perubahan lama waktu siang dan malam

D terjadinya siang dan malam

18. Berikut ini yang bukan merupakan peristiwa akibat rotasi bumi adalah... .

A terjadinya siang dan malam

B terjadinya gerak semu harian matahari

C terjadinya perbedaan waktu berbagai tempat di Bumi

D terjadinya pergantian musim

19. Hasil bumi Brunei Darussalam yang menyumbang 40% pendapatan negara adalah... .

(a) _____





A minyak Bumi

B karet

C timah

D batu bara

20. Lumbung padi Asia Tenggara adalah sebutan untuk negara... .





A		Myanmar	B		Thailand
C		Vietnam	D		Filipina

21. Thailand, Vietnam, maupun Kamboja mempunyai kelebihan sumber daya alam, antara lain terdapatnya kawasan subur untuk budidaya tanaman padi, seperti di Delta Sungai... .

(a) _____

- | | | | |
|---|--------|---|------|
| A | Mekong | B | Musi |
| C | Amazon | D | Nil |

22. Berikut adalah negara-negara pemrakarsa ASEAN, kecuali... .

A		B	
C		D	

23. Hasil tanaman pangan utama Laos adalah padi dan jagung. Hasil hutan utama berupa kayu jati.

Sebagian besar penduduk Filipina bermata pencaharian sebagai petani. Hasil pertanian utama, antara lain pisang, jeruk, kelapa, kopi, tembakau, dan tebu. Tanaman pangan utama adalah padi dan jagung.

Persamaan keadaan perekonomian di Laos dan Filipina berdasarkan teks di atas adalah ...

(a) _____

- | | |
|--------------------------------------|---|
| <input type="checkbox"/> A pertanian | <input type="checkbox"/> B perdagangan |
| <input type="checkbox"/> C perikanan | <input type="checkbox"/> D pertambangan |

24. Contoh kegiatan ekonomi masyarakat sekitar pantai yang berhubungan dengan potensi wisata alamnya yaitu... .

(a) _____

- | | |
|--|---|
| <input type="checkbox"/> A menyewakan perahu | <input type="checkbox"/> B bercocok tanam |
| <input type="checkbox"/> C membuat garam | <input type="checkbox"/> D menangkap ikan di laut |

25. Badu membunyikan dua nada secara bersama dan terdengar harmonis. Interval nada yang dimainkan Badu disebut... .

- | | |
|--|---|
| <input type="checkbox"/> A interval harmonis | <input type="checkbox"/> B interval melodis |
| <input type="checkbox"/> C descending interval | <input type="checkbox"/> D ascending interval |

- 26.



Ina melihat sebuah reklame berisi ajakan jalan sehat yang dibentangkan di antara dua tiang di pojokan jalan. Reklame yang dilihat Ina disebut... .

(a) _____

- | | |
|-------------------------------------|------------------------------------|
| <input type="checkbox"/> A spanduk | <input type="checkbox"/> B brosur |
| <input type="checkbox"/> C kalender | <input type="checkbox"/> D katalog |

27.



Sebuah perusahaan menampilkan produk yang dijualnya pada kalender. Kalender dibuat perusahaan untuk tujuan... .

(a) _____

A

komersial

B

nonkomersial

C

pendidikan

D

hiburan

28.



Tari Gantar diperagakan oleh tiga penari. Berdasarkan bentuk koreografinya, tari Gantar termasuk jenis tari... .

A

tunggal

B

berpasangan

C

kelompok

D

massal

29.



Poster juga merupakan ajang promosi, yang bertujuan untuk... .

- | | |
|---|---|
| <input type="checkbox"/> A produk yang ada di poster lebih dikenal masyarakat | <input type="checkbox"/> B produk yang ada di poster lebih mudah dijual |
| <input type="checkbox"/> C produk yang ada di poster mudah digunakan | <input type="checkbox"/> D produk yang ada di poster mudah dijual kembali |

30. Lagu berikut yang bertangga nada diatonis mayor adalah... .

(a) _____

- | | |
|---|--|
| <input type="checkbox"/> A hari merdeka | <input type="checkbox"/> B apuse |
| <input type="checkbox"/> C syukur | <input type="checkbox"/> D gugur bunga |