

























REPASO INVERTEBRADOS

29. [FOTOCOPIA] Relaciona cada grupo de animales con su descripción.

- | | |
|------------------|---|
| Poríferos ___ | 1 - Cuerpo blando, donde puede distinguirse el pie y la masa visceral. |
| Cnidarios ___ | 2 - Forma de saco, hueco, con muchos poros pequeños y uno o varios agujeros grandes |
| Anélidos ___ | 3 - Cuerpo dividido en segmentos, de los que pueden partir apéndices articulados. |
| Moluscos ___ | 4 - Esqueleto formado por placas calizas recubiertas de piel. |
| Artrópodos ___ | 5 - Cuerpo cilíndrico y alargado, dividido en anillos. |
| Equinodermos ___ | 6 - Cavidad digestiva comunicada con el exterior por un orificio, rodeado de tentáculos |

30. [FOTOCOPIA] Clasifica los siguientes animales (Grupo y subgrupo)

	Ejemplo. INVERTEBRADO PORIFERO		INVERTEBRADO MOLUSCO GASTERÓPODO
			
			
			
			
			
			
			
			
			

31. [FOTOCOPIA] Clasifica los siguientes animales:

Ciempis, caracol, almeja, estrella de mar, mariposa, cangrejo, pulpo, escolopendra, saltamontes, anémona, esponja, medusa, erizo marino, sanguijuela, gusano de seda

PORÍFEROS	CNIDARIOS	MOLUSCOS	GUSANOS	ARTRÓPODOS	EQUINODERMOS

32. [FOTOCOPIA] Completa las siguientes oraciones relacionadas con diferentes grupos de invertebrados:

Los poríferos tienen _____, células con flagelo que crean una corriente de agua que penetra por los poros.

Los cnidarios presentan en sus tentáculos los _____, células urticantes que inyectan veneno en sus presas.

Los artrópodos tienen un esqueleto externo que se llama _____. Cuando crecen, se desprenden de él y fabrican uno nuevo más grande, proceso conocido como _____

Los equinodermos tienen un _____ formado por tubos que terminan en pies _____, para desplazarse, respirar, eliminar desechos...

También tienen un esqueleto formado por unas placas recubiertas de piel, llamado _____