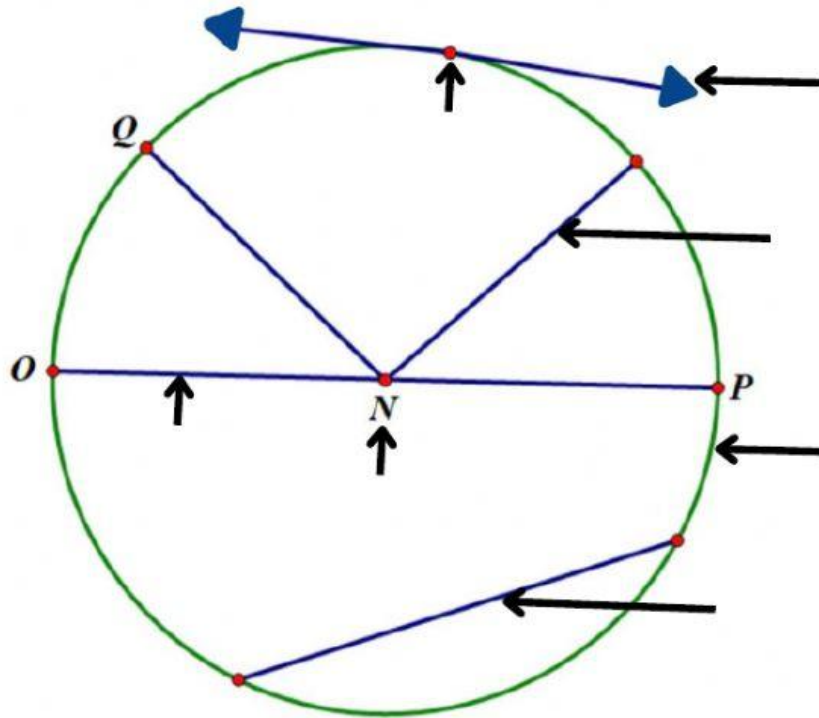


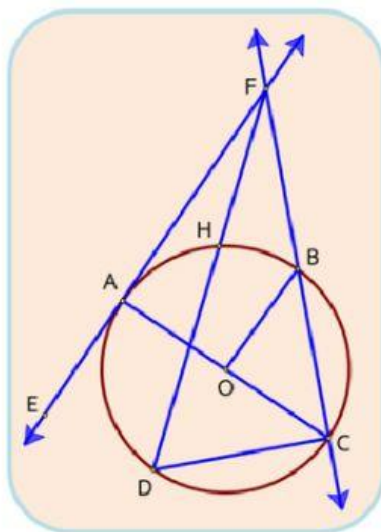
ชื่อ.....ชั้น.....เลขที่.....

ใบกิจกรรม เติมให้เต็ม

คำชี้แจง : ให้นักเรียนเขียนอธิบายส่วนต่าง ๆ ของวงกลมต่อไปนี้ให้ถูกต้อง



2. จากรูป จงบอกชื่อส่วนต่าง ๆ ที่เกี่ยวข้องกับวงกลม O ดังนี้

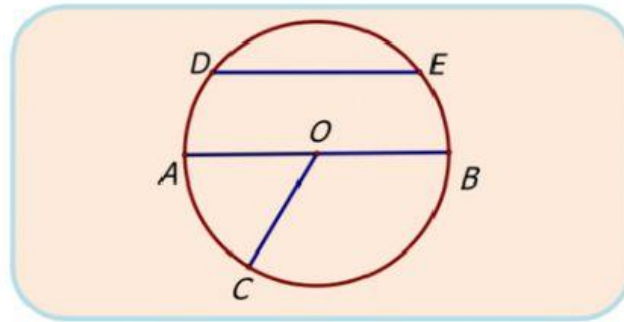


- 1) เส้นผ่านศูนย์กลาง คือ
- 2) รัศมี คือ
- 3) คอร์ด คือ
- 4) คอร์ดที่ยาวที่สุด คือ
- 5) เส้นสัมผัสวงกลม คือ
- 6) เส้นตัดวงกลม คือ
- 7) ส่วนโค้งที่เป็นครึ่งวงกลม คือ

ชื่อ.....ชั้น.....เลขที่.....

ใบกิจกรรม เติมให้เต็ม

คำชี้แจง : ให้นักเรียนตอบคำถามจากรูปภาพเกี่ยวกับส่วน ต่าง ๆ ของวงกลมต่อไปนี้ให้ถูกต้อง



จากรูปให้ O เป็นจุดศูนย์กลางของวงกลม จุด A, B, C, D และ E อยู่บนวงกลม จงตอบคำถามต่อไปนี้

1) เรียกส่วนของเส้นตรง DE, OC, AB ว่าอย่างไร

.....

2) คอร์ดที่ยาวที่สุดของวงกลมหนึ่งมีชื่อเรียกเฉพาะว่าอย่างไร

.....

3) คอร์ดที่แบ่งส่วนโค้งของวงกลมออกเป็นสองส่วนเท่า ๆ กันคือเส้นใด

.....

4) เรียกส่วนโค้งของวงกลมที่ถูกแบ่งด้วยคอร์ดที่ไม่ใช่เส้นผ่านศูนย์กลางว่าอย่างไร

.....