

¡ATENCIÓN, PREGUNTAS!

Relaciona para hacer oraciones correctas.

- | | |
|--------------------|-----------------|
| Un triángulo tiene | seis lados. |
| Un pentágono tiene | tres ángulos. |
| Un hexágono tiene | cinco vértices. |

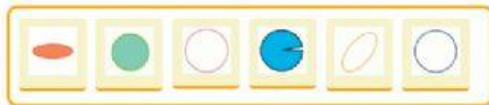
Marca el nombre de cada uno de estos triángulos según sus lados.



Hugo tiene cuatro palillos: dos miden 5 cm y los otros dos miden 3 cm. ¿Qué paralelogramos podrá construir con esos cuatro palillos?

- ☐ Un rombo y un romboide.
- ☐ Un rectángulo y un romboide.
- ☐ Un cuadrado y un rombo.

Arrastra las figuras según corresponda.



Circunferencia

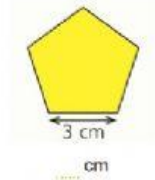
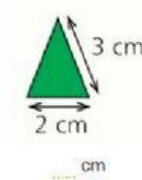
Círculo

Ni circunferencia ni círculo

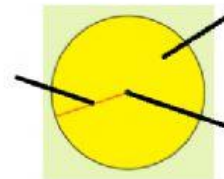
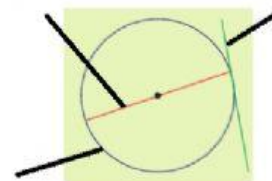
Observa estas señales y escribe a qué figura plana se parecen.



Calcula el perímetro de las siguientes figuras.



Escribe el nombre de estos elementos.



Di a qué cuerpo geométrico se parecen estos objetos.

