

Jenis-Jenis Segitiga Berdasarkan Sisinya

Ada tiga jenis segitiga berdasarkan sisi yang dimilikinya, yakni:

1. Segitiga Sama Kaki

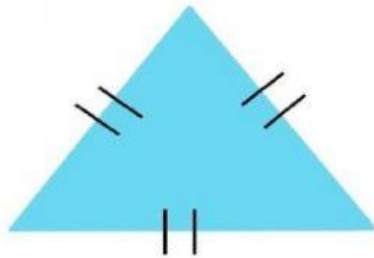
Berikut contoh gambar segitiga sama kaki.



Dinamakan Segitiga sama kaki dikarenakan memiliki dua sisi yang sama panjang.

2. Segitiga Sama Sisi

Berikut contoh gambar segitiga sama sisi.



Dinamakan segitiga sama sisi karena semua sisinya sama panjang

3. Segitiga Sembarang

Berikut contoh gambar segitiga sembarang.

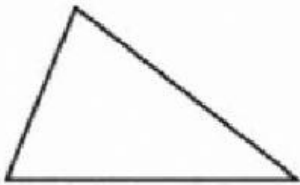


Dinamakan Segitiga sembarang karena sisinya tidak ada yang sama panjang.

Setelah kamu memahami materi diatas coba kerjakan latihan soal dibawah ini

1. Segitiga yang memiliki dua sisi yang sama panjang dinamakan segitiga....
2. Segitiga yang semua sisinya tidak sama besar adalah segitiga.....
3. Segitiga sama sisi adalah segitiga yang memiliki.....sisi yang sama panjang
4. Segitiga memiliki berapa buah sisi?
5. Berdasrkan sisi yang dimilikinya segitiga ada berapa banyak?

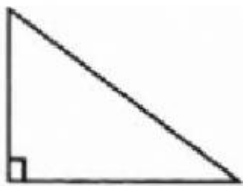
Pasangkanlah gambar dibawah ini dengan jawaban yang menurut kamu benar



Segitiga sama kaki



Segitiga sembarang



Segitiga sama sisi

