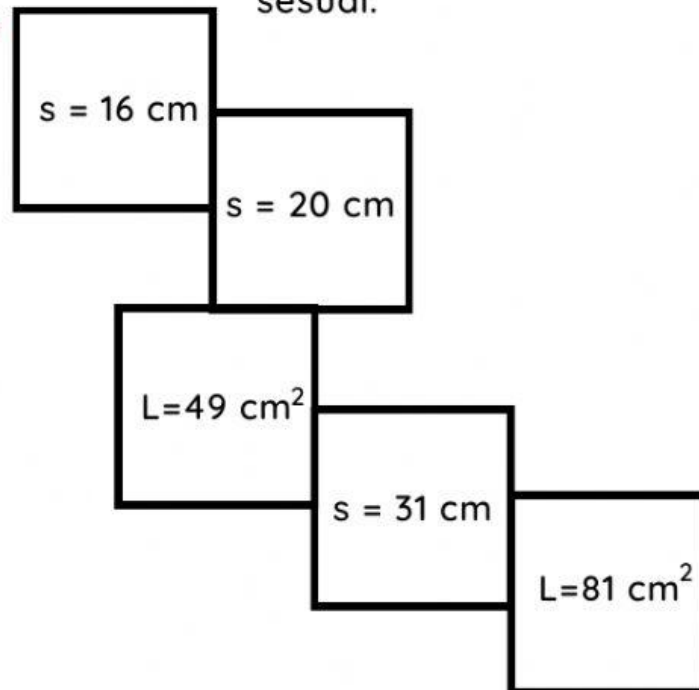


Nama : .....


Kelas : .....

## Coloring with Math


Zia akan pulang ke rumah dengan melewati jalan setapak berbentuk persegi. Ia berangan untuk memberi warna pada jalan tersebut. Untuk itu, ia harus menghitung luas dan panjang sisi dari persegi untuk memberi warna yang sesuai.



9




400



256



7



961

