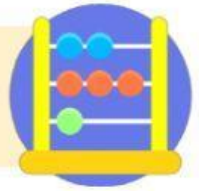
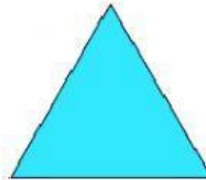
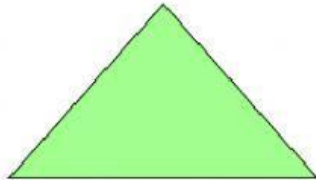
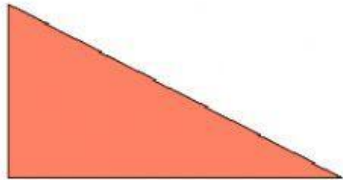


# TRIÁNGULOS Y CUADRILÁTEROS



1

Clasifica los siguientes triángulos según sus lados:



Equilátero

Isósceles

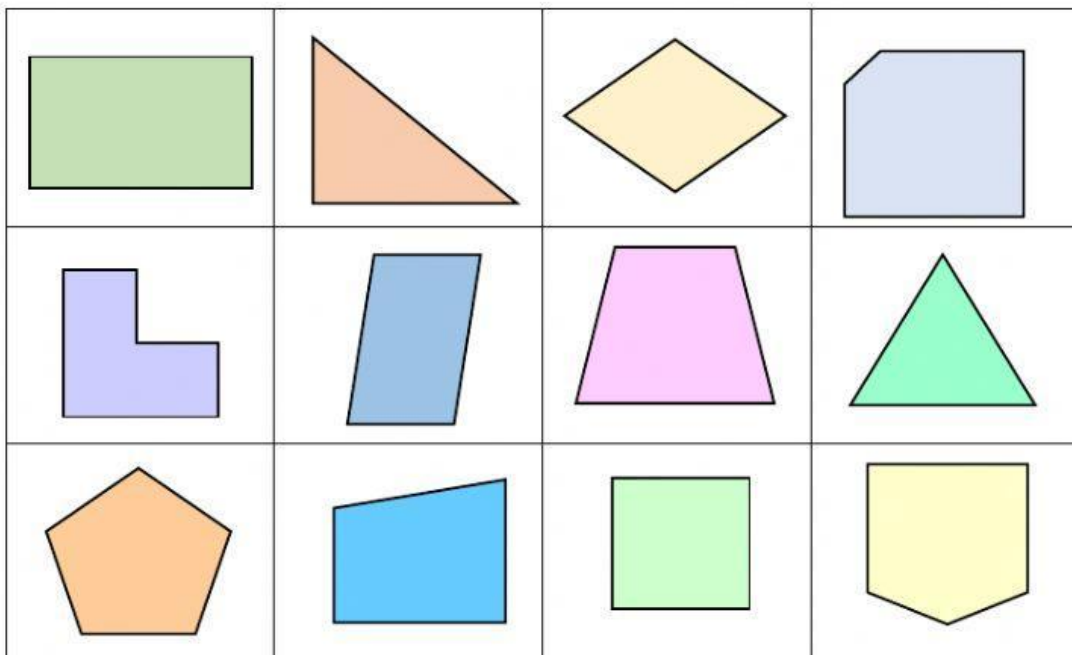
Escaleno

Recuerda que según sus lados los triángulos pueden ser:

- Equiláteros: 3 lados iguales
- Isósceles: 2 lados iguales
- Escalenos: todos los lados diferentes








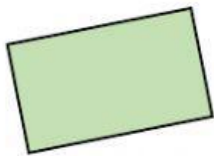

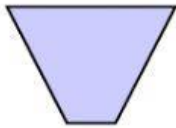

2

¿Cuáles de las siguientes figuras son **cuadriláteros**? Selecciona las que lo sean:



3

Coloca los siguientes cuadriláteros donde corresponda:



Cuadrado	Rectángulo	Rombo	Trapezio