

1.-Relaciona los nombres de las partes del cuerpo con su situación en el dibujo y despues escribe donde corresponda.

Hueso	articulación	músculo
-------	--------------	---------

Bíceps

Abdominal

Pectoral

Gemelo

Fémur

Codo

Húmero

Muñeca

Costillas

Rodilla

Tobillo

Bíceps	Abdominal	Pectoral	Gemelo	Fémur		
Codo	Húmero	Muñeca	Costillas	Rodilla	Tobillo	

Hueso	articulación	músculo
<input type="text"/>	<input type="text"/>	<input type="text"/>
<input type="text"/>	<input type="text"/>	<input type="text"/>
<input type="text"/>	<input type="text"/>	<input type="text"/>
	<input type="text"/>	<input type="text"/>

2.- Escribe donde corresponda.

Pulmones	Cerebro	Estómago	Corazón	Intestino	Riñones
Dentro de la cabeza	Dentro del tórax	Dentro del abdomen			
<input type="text"/>	<input type="text"/>	<input type="text"/>			
	<input type="text"/>	<input type="text"/>			
		<input type="text"/>			

3.- Selecciona el nombre del aparato que realiza la actividad que se describe en cada caso.

Respirar para obtener el oxígeno que el cuerpo necesita y expulsar el aire que no se necesita.	Repartir por medio de la sangre las sustancias que necesitamos para vivir y recoger las que hay que eliminar.	Mover el cuerpo.
↓	↓	↓
<input style="width: 100%; height: 20px;" type="text"/>	<input style="width: 100%; height: 20px;" type="text"/>	<input style="width: 100%; height: 20px;" type="text"/>

4.- Escribe los nombres de los cinco sentidos.

5.-¿Qué aporta cada alimento? Selecciona.



6.-Escribe V (verdadero) o F (falso) lo que hay que hacer para tener buena salud.

- Tomar dos comidas y dormir tres horas al día
- Beber agua y tomar alimentos variados
- Reconocer y expresar nuestras emociones.....
- Hacer ejercicio físico: practicar deporte, bailar, jugar al aire libre

7.-Observa y arrastra una característica para cada animal.

Omnívoro

Ovíparo

Invertebrado



8.- Relaciona.

<input type="radio"/> Anfibio	<input type="radio"/> 	<input type="radio"/> Tiene pelo.
<input type="radio"/> Ave	<input type="radio"/> 	<input type="radio"/> Tiene plumas.
<input type="radio"/> Reptil	<input type="radio"/> 	<input type="radio"/> Tiene la piel muy fina.
<input type="radio"/> Mamífero	<input type="radio"/> 	<input type="radio"/> Tiene escamas y es terrestre.
<input type="radio"/> Pez	<input type="radio"/> 	<input type="radio"/> Tiene escamas y vive en el agua.

9.- Observa y escribe los nombres de las partes señaladas.

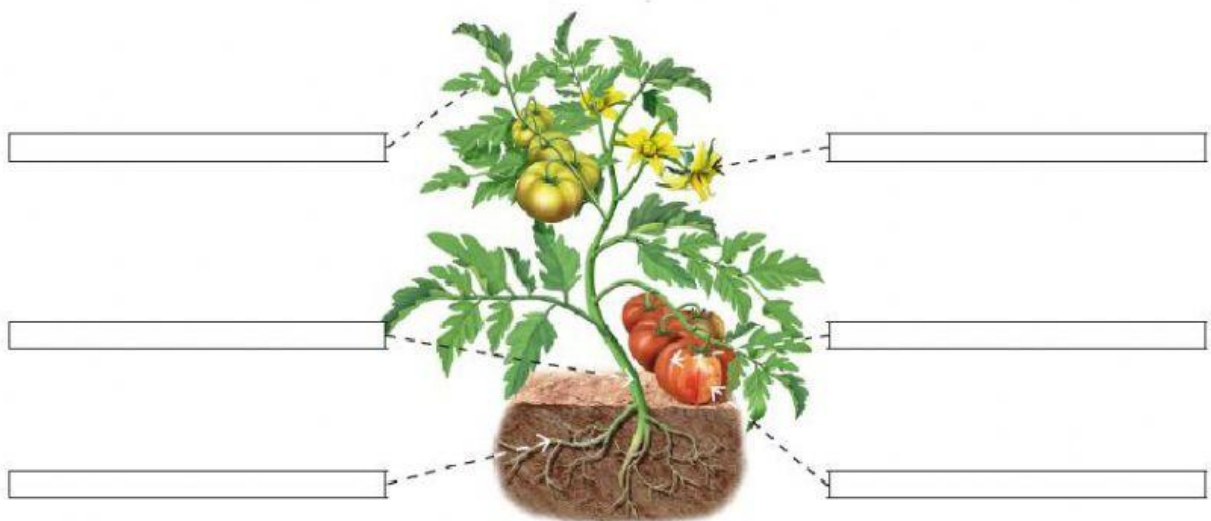




Diagram of a tomato plant with six empty boxes for labeling its parts:



- Top left box points to the stem.
- Top right box points to the leaves.
- Middle left box points to the fruit (tomatoes).
- Middle right box points to the flowers.
- Bottom left box points to the roots.
- Bottom right box points to the soil.

10.-Según el tallo, ¿qué tipo de planta se describe en cada caso?

Verde, blando
y pequeño

Alto, grueso
y duro

Duros
y no muy altos

