

LEMBAR KERJA PESERTA DIDIK DINAMIKA KEPENDUDUKAN GEOGRAFI

Nama :

Kelas :

A. Berilah Keterangan tentang sumber data kependudukan berikut !

<p>PENCATATAN PENDUDUK DI INDONESIA DILAKUKAN DARI JANGKA WAKTU 1990,2000.2010, DAN TERAKHIR 2020</p>	<input type="checkbox"/> Sensus Penduduk <input type="checkbox"/> Survei Penduduk <input type="checkbox"/> Registrasi Penduduk
<p>BAPAK IQBAL MENIKAH DENGAN SOLEKHAN DAN DIKARUNIAI ANAK SEHINGGA MELAKUKAN PEMBAHARUAN KARTU KELUARGA</p>	<input type="checkbox"/> Sensus Penduduk <input type="checkbox"/> Survei Penduduk <input type="checkbox"/> Registrasi Penduduk
<p>PADA TAHUN 2018 DILAKSANAKAN PENGUMPULAN DATA PENDUDUK PADA SEKTOR PERTANIAN DI INDONESIA</p>	<input type="checkbox"/> Sensus Penduduk <input type="checkbox"/> Survei Penduduk <input type="checkbox"/> Registrasi Penduduk

B. BERIKAN KETERANGAN JENIS SENSUS DAN METODE SESUAI DENGAN PERTANYAAN YANG DIBERIKAN DENGAN MENEMPELKAN PADA KOLOM YANG KOSONG

<p>SAAT SENSUS PENDUDUK DILAKUKAN ANTON MERUPAKAN PENDATANG DI KABUPATEN KENDAL DATA PADA KTP SEBENARNYA ORANG DEMAK, TETAPI ANTON DICATAT OLEH PETUGAS SENSUS UTUK MENGISI DATA DENGAN MENJAWAB PERTANYAAN DARI PETUGAS DAN PETUGAS MENCATAT HASIL JAWABAN DARI ANTON</p>	<p style="text-align: center;">JENIS SENSUS</p> <div style="border: 1px solid black; height: 20px; width: 100%;"></div> <p style="text-align: center;">METODE SENSUS</p> <div style="border: 1px solid black; height: 20px; width: 100%;"></div>
--	--

De Facto

De Jure

CANVASSER

HOUSE HOLDER

SENSUS YANG DILAKSANAKAN 2020 DI INDONESIA MENCATAT PENDUDUK YANG MEMANG BERTEMPAT TINGGAL DISITU DILIHAT DARI KARTU TANDA PENDUDUKNYA SERTA UNTUK PENGISIAN DATA KEPALA RUMAH TANGGA DIBERIKAN KUESIONER ONLINE YANG DIISI SECARA MANDIRI KEMUDIAN HASILNYADIKIRIM LEWAT ONLINE

JENIS SENSUS

METODE SENSUS





De Facto

De Jure

CANVASSER

HOUSE HOLDER

C. Berikan jawaban yang sesuai dengan mengurutkan peringkat negara yang populasinya terbesar di dunia dengan menempelkan ke lingkaran yang kosong!

	INDIA	<input type="text"/>	1	PERINGKAT 1 DI DUNIA
	CINA	<input type="text"/>	2	PERINGKAT 2 DI DUNIA
	INDONESIA	<input type="text"/>	3	PERINGKAT 3 DI DUNIA
	US	<input type="text"/>	4	PERINGKAT 4 DI DUNIA

D. Berikan Check list pada factor natalitas mortalitas berikut ini !

PRO NATALITAS	
<input type="checkbox"/>	Peperangan
<input type="checkbox"/>	Kawin usia muda
<input type="checkbox"/>	Program KB
<input type="checkbox"/>	Anggapan banyak anak, banyak rejeki
<input type="checkbox"/>	Kecelakaan Lalu lintas

PRO MORTALITAS	
<input type="checkbox"/>	Peperangan
<input type="checkbox"/>	Fasilitas kesehatan yang memadai
<input type="checkbox"/>	Program KB
<input type="checkbox"/>	Pembatasan tunjangan anak
<input type="checkbox"/>	Wabah Penyakit

ANTI NATALITAS	
<input type="checkbox"/>	Peperangan
<input type="checkbox"/>	Kawin usia muda
<input type="checkbox"/>	Program KB
<input type="checkbox"/>	Pembatasan tunjangan anak
<input type="checkbox"/>	Wabah Penyakit

ANTI MORTALITAS	
<input type="checkbox"/>	Peperangan
<input type="checkbox"/>	Kawin usia muda
<input type="checkbox"/>	Program KB
<input type="checkbox"/>	Sanitasi lingkungan yang bersih dan sehat
<input type="checkbox"/>	Larangan bunuh diri di agama

