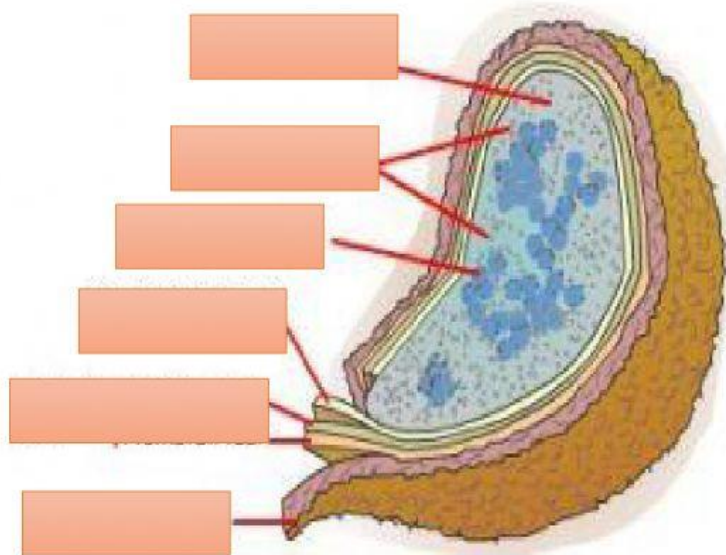


NAMA :

KELAS :

- A. Lengkapi struktur sel bakteri di bawah ini dengan meletakkan daftar nama bagian yang sesuai dengan yang ditunjukkan panah! (drag and drop)

Struktur Dasar Sel Bakteri



Dinding sel

sitoplasma

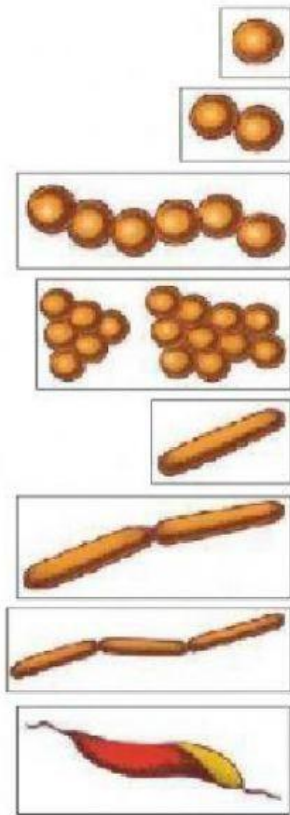
Kapsul

Membran Plasma

Inti sel

Riibosom

B. Pasangkanlah gambar sel bakteri berikut dengan nama bentuknya yang di sebelah kanan dengan menarik garis dari sisi sebelah kiri ke arah nama bentuk yang sesuai



Diplobasil

Streptobasil

Monokokus

Stafilokokus

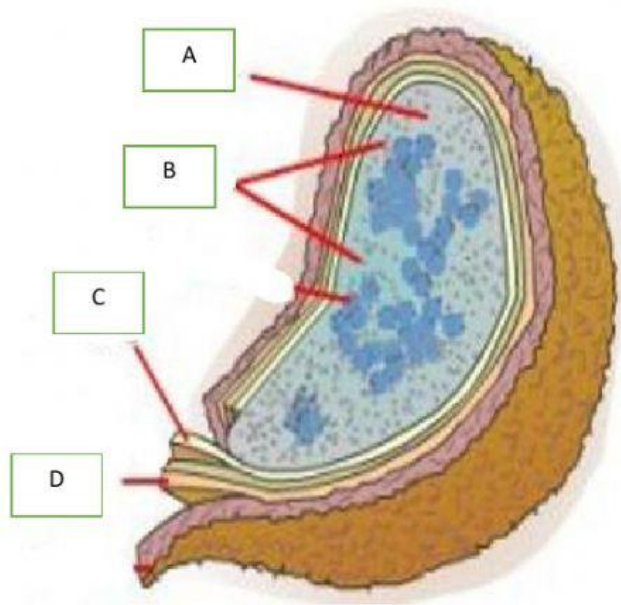
Diplokokus

Monobasil

Spiral

Streptokokus

C. Perhatikan gambar di bawah ini, kemudian lengkapi tabel yang disediakan



Struktur dasar sel bakteri

Abjad	Keterangan	Fungsi

D. Isilah tabel di bawah ini!

a. Bakteri menguntungkan

No	Keterangan	Nama bakteri	Cara kerja
1	Pembuatan Makanan		
2	Pengelolaan Lingkungan		

b. Bakteri Merugikan

No	Keterangan	Nama bakteri	Cara kerja
1	Patogen terhadap manusia		
2	Patogen terhadap tumbuhan		

E. Jelaskan pentingnya teknik pewarnaan bakteri dalam kegiatan analisis mikrobiologi!