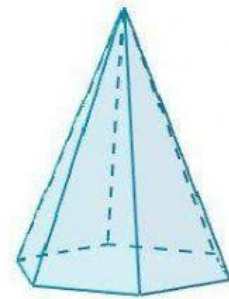
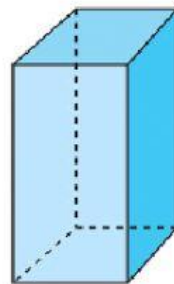
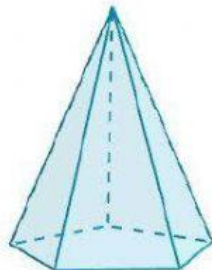

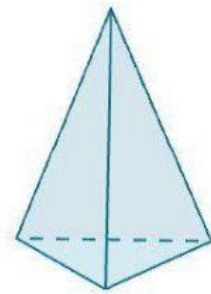

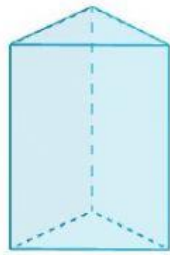
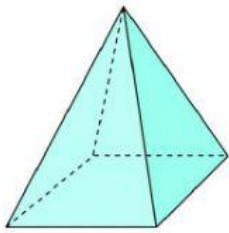


1. Selecciona el nom de cada prisma i piràmide.



2. Relaciona cada pregunta amb la seva resposta.

Quantes cares laterals té un prisma quadrangular?

Quantes cares laterals té una piràmide triangular?

Quantes cares laterals té una piràmide pentagonal?

Quantes cares laterals té un prisma hexagonal?

- Té cinc cares laterals.
- Té sis cares laterals.
- Té quatre cares laterals.
- Té tres cares laterals.

Quants vèrtexs té una piràmide triangular?

Quants vèrtexs té una piràmide pentagonal?

Quants vèrtexs té un prisma hexagonal?

Quants vèrtexs té un prisma quadrangular?

● Té vuit vèrtexs.


● Té quatre vèrtexs.

● Té sis vèrtexs.

● Té dotze vèrtexs.

3. Omple els espais buits amb la paraula adequada.

cinc	una piràmide	un prisma	deu	quatre
una	dues	cinc	pentàgon	quadrat

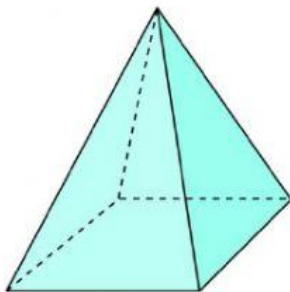


Aquest cos geomètric és

Té _____ bases i aquesta base és un _____

Té _____ cares laterals.

Té _____ vèrtexs.



Aquest cos geomètric és

Té _____ base i aquesta base és un _____

Té _____ cares laterals.

Té _____ vèrtexs.

BE HAPPY AND SMILE 