


3

ORGANIZA LA INFORMACIÓN, ELIGE LA OPERACIÓN Y RESPONDE A LA PREGUNTA

En cada paquete hay 36 galletas ¿cuántas galletas hay en total?



¿Qué tres cosas se relacionan en el problema?

- Número de partes →
- Valor de cada parte →
- Total →

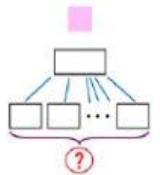
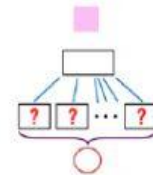
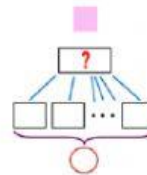
¿Qué me dan y qué me piden?

→  
→  
→

Multiplicación

☐

División

☐


Elige

\_\_\_\_\_

Respuesta:

