

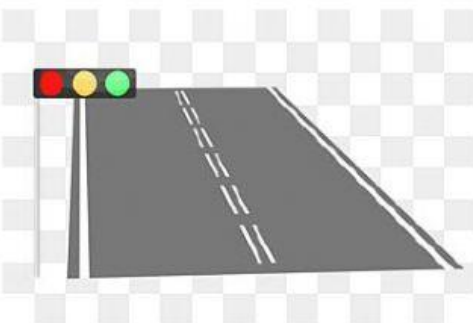
# RECTAS Y ÁNGULOS

---

1. Di si son perpendiculares, secantes o paralelas:




\_\_\_\_\_



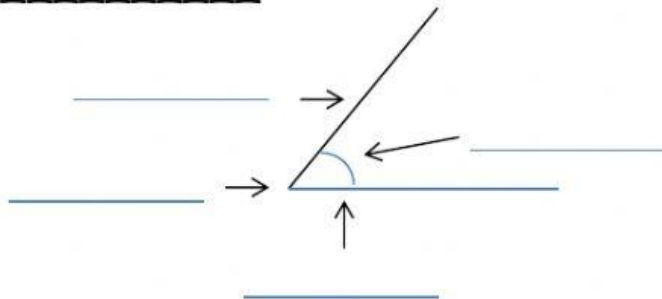
\_\_\_\_\_

2. señala las rectas secantes:

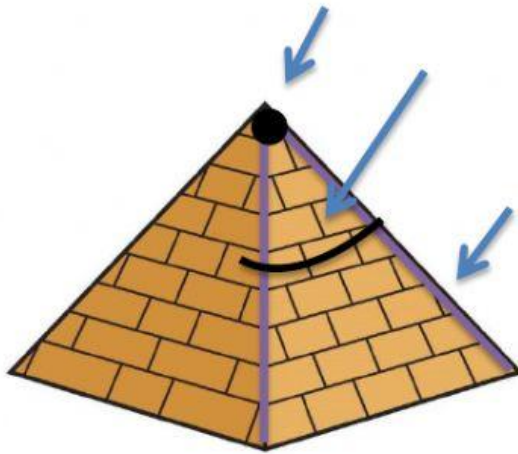


3. responde:


Los elementos de un ángulo son los \_\_\_\_\_, el  
\_\_\_\_\_ y la abertura o también llamado  
\_\_\_\_\_




4. completa:



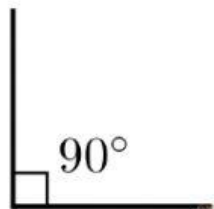
5. señala los ángulos rectos.



6. une:



RECTO



AGUDO



OBTUSO

## 7. problemas:

a) Marta tiene un problema, le han dado esto de deber y no sabe hacerlo, complétalo tú:



● ángulo obtuso: \_\_\_\_\_



● ángulo agudo: \_\_\_\_\_



● ángulo recto: \_\_\_\_\_

\_\_\_\_\_

\_\_\_\_\_