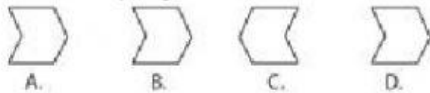


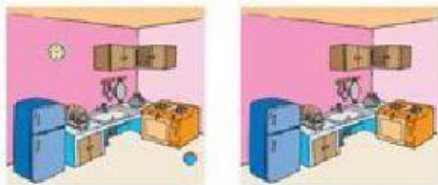
1. Manakah yang tidak sesuai?



2. Manakah yang tidak sesuai?



3. Carilah 2 perbedaan dari gambar di bawah.



Benda apa yang berbeda?

- 1) _____
2) _____

4. Pilihlah pasangan yang tidak sesuai!

- A. KUDA – EMPAT C. AYAM – DUA
B. KUCING – EMPAT D. LIPAN – EMPAT

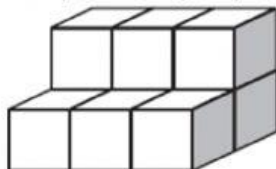
5. Manakah gambar yang tidak sesuai?



6. Manakah gambar yang tidak sesuai?



7. Berapakah banyaknya kotak?



- A. 7
B. 8
C. 9
D. 10

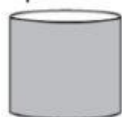
8. Rafi membeli 2 kg cat. Cat tersebut akan dimasukkan ke dalam kantong yang berisi masing-masing 100 gram. Berapakah banyaknya kantong yang diperlukan?

- A. 5 kantong C. 15 kantong
B. 10 kantong D. 20 kantong

9. Anton berpergian dari kota A menuju kota B dengan kecepatan 30 km/jam. Jarak kota A dan B adalah 30 km. Jika Anton berangkat pada pukul 09.00, jam berapakah ia samapai di kota B?

- A. 09.30 C. 10.30
B. 10.00 D. 11.00

10. Berapakah banyaknya sisi dari bangun di bawah?



- | | |
|------|------|
| A. 3 | C. 5 |
| B. 4 | D. 6 |