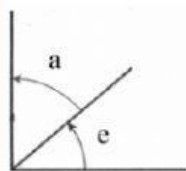


## Ángulos complementarios y suplementarios

**Ángulos complementarios** son los que suman un recto ( $90^\circ$ )

**Ángulos suplementarios** son los que suman un llano ( $180^\circ$ )



Ángulos complementarios



Ángulos suplementarios

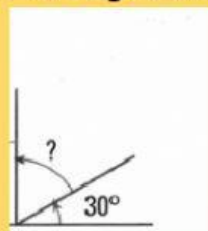
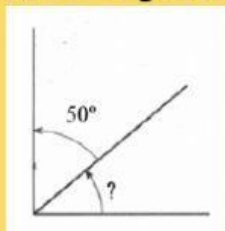
Complementario de  $\hat{a} = \hat{e}$

Complementario de  $\hat{e} = \hat{a}$

Suplementario de  $\hat{i} = \hat{o}$

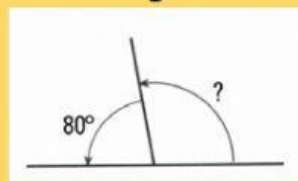
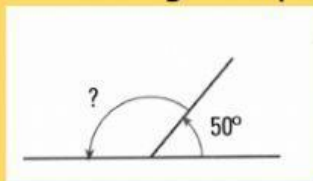
Suplementario de  $\hat{o} = \hat{i}$

1. Calcula el ángulo complementario de los siguientes ángulos:



Complementarios $90^\circ$	
$45^\circ$	
	$20^\circ$
$15^\circ$	
	$55^\circ$

2. Calcula el ángulo suplementario de los siguientes ángulos:



Suplementarios $180^\circ$	
$140^\circ$	
	$15^\circ$
$120^\circ$	
	$90^\circ$